

PEMBELAJARAN INTERAKTIF



**KELAS 3 SDN SEBAUNG III
SEMESTER 1**

TEMA 3

Benda di Sekitarku

SUBTEMA 2

Wujud Benda

Pembelajaran 3



Mulai





PETUNJUK PENGGUNAAN

Anak-anak yang Bapak guru banggakan, sebelum menggunakan pembelajaran ini pastikan perangkat keras (HP/Laptop) terhubung dengan koneksi internet



Menuju halaman selanjutnya



Kembali ke halaman sebelumnya



Kembali ke menu



Keluar



ASSALAMU ALAIKUM WR. WB.
Selamat Pagi Anak-anak...!!!
Sebelum belajar mari kita berdoa !




Berdoa Mulai



DOA BELAJAR

رَبِّي زِدْنِي عِلْمًا
وَأَرْزُقْنِي فَهْمًا

Ya Allah ...
tambahkanlah daku **ILMU**
dan kurniakan daku
KEFAHAMAN







Selanjutnya mari kita menyanyikan lagu wajib Nasional



Indonesia Raya



Garuda Pancasila



Materi Pembelajaran



Benda dan Sifatnya



Mengukur Jarak Tempat



Gerak Kuat dan Lemah Kaki

Benda dan Sifatnya




Gambar 4.1 Macam-macam benda

Coba perhatikan di sekitarmu. Pasti terdapat macam-macam benda.

Benda dibedakan menjadi 3 jenis. Yaitu benda padat, benda cair, dan gas.

Apakah kamu tahu sifat benda-benda tersebut. Ayo pelajari bersama.



Mari amati benda-benda di sekitarmu, seperti meja, jam, air jeruk, air susu, balon, dan ban sepeda. Meja dan jam merupakan contoh benda padat. Air jeruk dan air susu merupakan contoh benda cair. Adapun balon dan ban sepeda merupakan contoh benda yang dapat diisi gas. Mari, amati benda-benda pada **Gambar 4.1**.



Sumber: Stockbyte; www.ecoproducts.ca; *The Big Book of Science Experiment*; Dokumentasi Penerbit

Setiap benda memiliki sifat yang khas. Sifat khas benda dapat dibedakan berdasarkan wujud, bentuk, warna, dan bau. Berdasarkan wujudnya, benda dikelompokkan menjadi benda padat, cair, dan gas.



Mengukur Jarak Tempat



Berapakah jarak yang ditempuh dari rumahmu ke sekolah?
Kamu dapat bertanya kepada orang tuamu.
Rumah Dayu berjarak 6 km dari sekolah. Jarak dari sekolah ke pasar 7 km. Berapa jarak yang ditempuh Dayu dari rumah ke pasar?

Jarak yang ditempuh Dayu dari rumah ke pasar adalah

$$6 \text{ km} + 7 \text{ km} = 13 \text{ km}$$



Saatnya Kuis

Udin dan Beni akan berlomba lari. Jarak yang akan ditempuh 450 m. Lomba pun segera dimulai. Saat Udin telah sampai ke garis akhir, Beni baru menempuh 250 m. Berapa meter sisa jarak yang harus ditempuh Beni sampai ke garis akhir?

700 m

A


600 m

B



Gerak Kuat dan Lemah Kaki

Gerakkanlah kakimu dengan dua jenis gerakan.
Gerakan yang lemah lembut dan gerakan yang kuat!
Lakukan dengan iringan lagu di bawah!
Lakukan gerakan kaki yang telah diajarkan sebelumnya!



Simaklah vidio lagu di bawah ini!





**Sampai Jumpa anak-anak
Belajar Tetap Semangat Ya!!**

**Sebelum mengakhiri pembelajaran
marilah kita ucapkan
Alhamdulillah Robbil Alamin**

Terima Kasih

