



MEDIA PEMBELAJA RANKELAS 2

**TEMA 2 SUBTEMA 1
PEMBELAJARAN 6**

TUJUAN PEMBELAJARAN

- Membuat laporan sederhana melalui gambar tentang cara menjaga kesehatan lingkungan rumah.
- Membuat peta konsep dalam bentuk tabel dari hasil analisis terhadap manfaat dan akibat hidup tidak bersatu di rumah
- Menganalisis banyak sisi, sudut, dan titik sudut dari benda-benda di sekitar rumah

Anak-anak mari kita belajar dari rumah!

Ayo kita menganalisis isi teks berikut!

Pekarangan Rumah Bersih Sehingga Keluarga Sehat

Pekarangan rumah taman bagi keluarga.

Pekarangan rumah tempat bermain bersama kakak dan adik. Pekarangan rumah juga tempat menanam bunga dan tanaman obat keluarga.

Tanaman bunga dan tanaman obat keluarga akan indah apabila dirawat.

Kebersihan pekarangan rumah wajib untuk dijaga. Banyak cara yang dapat dilakukan untuk menjaga kebersihan pekarangan rumah.

Halaman rumah harus sering disapu.

Sampah-sampah yang berserakan harus dibuang ke tempatnya. Selokan harus dibersihkan agar air mengalir dengan lancar. Rumput yang mengganggu tanaman juga harus dibersihkan.

Dengan demikian, pekarangan rumah akan bersih, asri, dan indah. Keluarga pun akan sehat.

Hasil analisis nya kalian tuliskan dalam buku catatan ya!

Sekarang Ayo kita Amati gambar-gambar di berikut!

Amatilah gambar berikut dengan teliti!



Gambar 1



Gambar 2



Gambar 3

Ayo kalian tuangkan hasil pengamatanMu, ke dalam bentuk laporan sederhana!

Dari gambar di atas, ayo apa manfaat hidup bersatu di rumah!

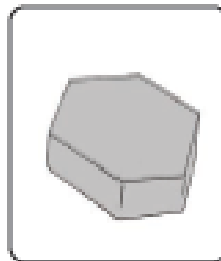
- **Ya, pekerjaan berat menjadi ringan.**
- **Pekerjaan lebih cepat selesai.**
- Menumbuhkan rasa kasih sayang antar anggota keluarga
- Munculnya sikap saling menghargai
- Hidup menjadi rukun

Sekarang apa akibat hidup tidak bersatu di rumah!

- Ya, pekerjaan terasa lebih berat karena dikerjakan sendiri
 - Tidak terciptanya rasa kasih sayang antar anggota keluarga
 - Sering bertengkar dengan anggota keluarga
- Pekerjaan lama selesainya
 - Tidak adanya rasa saling menghargai antar keluarga

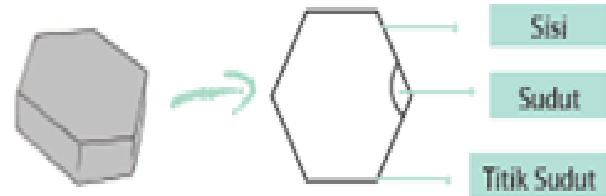
Perhatikan gambar benda berikut!

Berapa banyak sisi, sudut dan titik sudut pada gambar ubin berikut?



Konblok
Segi enam

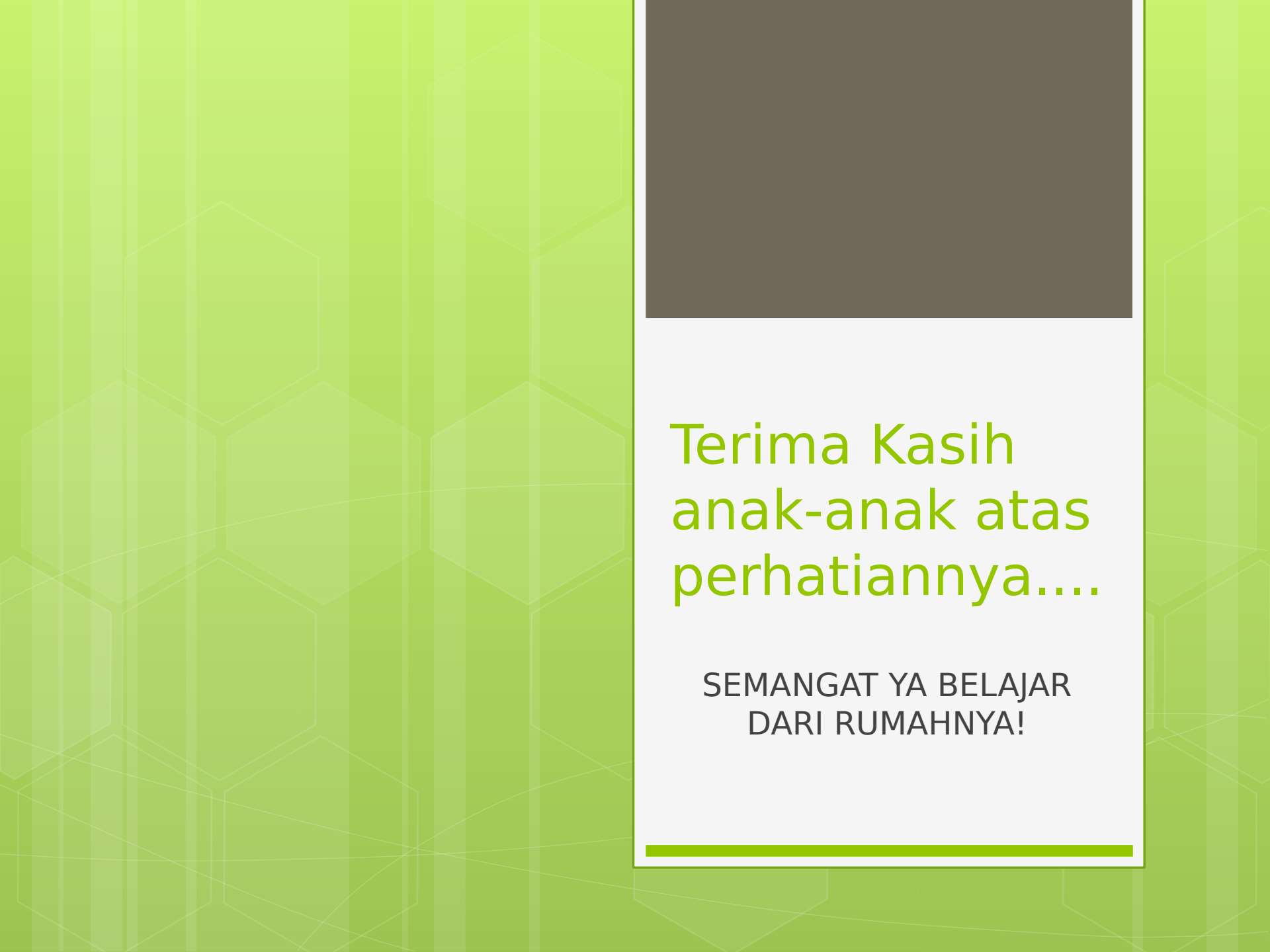
Ya, banyak sisi, sudut dan titik sudutnya adalah ...



Segi enam	
Banyak Sisi	: 6
Banyak Sudut	: 6
Banyak Titik Sudut	: 6

Ayo lihat dan amati lingkungan sekitarmu, cari 3 benda yang sisinya berbentuk bangun datar, Hitung Sisi, Sudut dan Titik sudutnya! Hasilnya tuliskan pada tabel ya!

No	Nama Benda	Ciri-ciri	Bentuk Bangun Datar
1.	Ubin	Banyak Sisi : 4 Banyak Sudut : 4 Banyak Titik Sudut: 4	Segi empat
2.	...	Banyak Sisi : ... Banyak Sudut : ... Banyak Titik Sudut:
3.	...	Banyak Sisi : ... Banyak Sudut : ... Banyak Titik Sudut:
4.	...	Banyak Sisi : ... Banyak Sudut : ... Banyak Titik Sudut:



Terima Kasih
anak-anak atas
perhatiannya....

SEMANGAT YA BELAJAR
DARI RUMAHNYA!