

## PENGEMBANGAN EVALUASI COMPUTER BASED TEST (CBT)

Satuan Pendidikan	: SDIP Nurul Ulum	Muatan Pelajaran	: Bahasa Indonesia 3.9
Kelas / Semester	: 1 / 1		: Matematika 3.6
			: PPKn 3.1
Tema / Subtema	: 4/1	Aplikasi/platform test	: Google Form
Pembelajaran	: 3	Link	: <a href="https://forms.gle/tGL86bhu4DTzm2oz5">https://forms.gle/tGL86bhu4DTzm2oz5</a>

### A. KISI-KISI PENILAIAN

MUATAN	KOMPETENSI DASAR	INDIKATOR	DESKRIPSI SOAL	JENIS SOAL	LEVEL KOGNITIF	NO SOAL
1	2	3	4	5	6	7
Bahasa Indonesia	3.9 Merinci kosakata dan ungkapan perkenalan diri, keluarga dan orang-orang di tempat tinggalnya secara lisan dan tulis dapat dibantu dengan kosakata daerah	3.9.1 Mengenalkan keluarga inti melalui tulisan dengan teliti	Siswa diminta memilih kalimat pernyataan yang tepat tentang tata cara perkenalan diri.	Pilihan ganda	C4 (menganalisis)	1
		3.9.1 Mengenalkan keluarga inti melalui tulisan dengan teliti	Siswa diminta untuk memilih jawaban yang bukan termasuk keluarga inti	Pilihan ganda	C4 (menganalisis)	2
Matematika	3.6 Mengenal bangun ruang dan bangun datar dengan menggunakan benda konkret	3.6.3 Membedakan bentuk bangun bangun datar dan bukan bangun datar dengan teliti	Siswa diminta untuk memilih gambar yang termasuk bangun datar	Pilihan ganda	C4 (menganalisis)	3

		3.6.3 Membedakan bentuk bangun bangun datar dan bukan bangun datar dengan teliti	Siswa diminta untuk memilih gambar yang bukan termasuk bangun datar	Pilihan ganda	C4 (menganalisis)	4
		3.6.3 Membedakan bentuk bangun bangun datar dan bukan bangun datar dengan teliti	Disajikan sebuah gambar, siswa diminta untuk menyebutkan permukaan pada gambar	Pilihan Ganda	C4 (menganalisis)	5
		3.6.3 Membedakan bentuk bangun bangun datar dan bukan bangun datar dengan teliti	Siswa diminta untuk memilih gambar yang permukaannya bukan termasuk segitiga	Pilihan Ganda	C4 (menganalisis)	6
PPKn	3.1 Memahami simbol sila-sila pancasila dalam lambang negara “Garuda Pancasila”	3.1.5 Menjelaskan simbol sila pertama dalam pancasila dengan percaya diri	Siswa diminta untuk memilih gambar yang menunjukkan lambang dari bunyi sila dalam pancasila Ketuhanan Yang Maha Esa	Pilihan Ganda	C4 (menganalisis)	7
		3.1.5 Menjelaskan simbol sila pertama dalam pancasila dengan percaya diri	Siswa diminta untuk menyebutkan bentuk pengamalan pancasila sila pertama di lingkungan keluarga	Pilihan Ganda	C5 (mengevaluasi)	8
		3.1.5 Menjelaskan simbol sila pertama dalam	Siswa diminta untuk menyebutkan yang bukan termasuk pengamalan pancasila sila pertama	Pilihan Ganda	C5 (mengevaluasi)	9

		pancasila dengan percaya diri				
		3.1.5 Menjelaskan simbol sila pertama dalam pancasila dengan percaya diri	Disajikan sebuah bacaan, siswa diminta untuk menyimpulkan isi bacaan tersebut termasuk bentuk pengamalan sila dalam pancasila	Pilihan Ganda	C5 (menyimpulkan)	10

## Asesmen Formatif CBT

Satuan Pendidikan : SDIP Nurul Ulum Muatan Pelajaran : Bahasa Indonesia  
3.9  
: PPKn 3.1  
: SBDP 3.2  
Kelas / Semester : 1 / 1 Aplikasi/platform test : Google Form

Link : <https://forms.gle/tGL86bhu4DTzm2oz5>

### A. Muatan Bahasa Indonesia KD 3.9

Kerjakan soal berikut dengan benar!


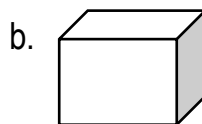
1. 1. Ayah, kakak, nenek, bibi
2. Paman, tante, adik, kakak
3. Ayah, ibu, adik, kakak

Perhatikan pernyataan di atas. Dari pernyataan tersebut, maka yang termasuk keluarga inti adalah pernyataan nomor ....

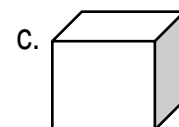

- a. 1
  - b. 2
  - c. 3
2. Dibawah ini yang termasuk keluarga inti, kecuali...
    - a. Ayah
    - b. Kakek
    - c. Kakak

### B. Matematika KD 3.6


3. Diantara pilihan jawaban berikut ini yang termasuk bangun datar adalah...



4. Diantara pilihan jawaban berikut ini termasuk bangun datar, kecuali.....



5.



Permukaan benda pada gambar tersebut berbentuk...

- a. Lingkaran                      b. Segitiga                      c. segiempat

6. Benda pada gambar berikut ini yang permukaannya berbentuk segitiga kecuali..

a.



b.



c.



### C. PPKn KD 3.1

7. Ketuhanan Yang Maha Esa, lambang dari bunyi sila tersebut adalah...

a.



b.



c.



8. Sikap yang mencerminkan sila pertama di lingkungan keluarga adalah...

- a. Membantu ibu memasak  
b. Berdoa setelah makan dan minum  
c. Mengerjakan PR

9. Berikut ini yang termasuk bentuk pengamalan pancasila sila pertama di lingkungan sekolah kecuali...

- a. Berdoa sebelum belajar  
b. Mengerjakan sholat dhuhur berjamaah  
c. Mengerjakan piket kelas

10. Dinda memiliki sebuah bunga. Sebagai bentuk rasa bersyukur kepada Allah Swt, maka dinda selalu menyirami dan merawat bunga itu agar tetap tumbuh subur. Pada bacaan tersebut, maka dinda sudah melakukan bentuk pengamalan pancasila yaitu sila ke...

- a. 2  
b. 1  
c. 3

## KUNCI JAWABAN

1. C
2. B
3. A
4. C
5. A
6. C
7. A
8. B
9. C
10. B

### Pedoman Penskoran

Nomor soal	Jenis soal	Nilai tiap item	Jumlah Nilai
1-10	Pilihan Ganda	1	10
Total skor = Jumlah Skor x 10			100