



BAHAN AJAR



Hidup Bersih dan Sehat di Tempat Bermain

SD NEGERI TEMBELANG 01

KELAS 2

TEMA 4 SUBTEMA 3

PEMBELAJARAN 6



JARING KOMPETENSI DASAR TEMA 4 SUBTEMA 3 PEMBELAJARAN 6

Bahasa Indonesia

3.4 Mengenal kosa kata dan konsep tentang lingkungan sehat dan lingkungan tidak sehat di lingkungan sekitar serta cara menjaga kesehatan lingkungan dalam bahasa indonesia atau bahasa daerah melalui teks tulis, lisan, atau visual

4.4 Menyajikan penggunaan kosakata bahasa indonesia yang tepat atau bahasa daerah hasil pengamatan tentang lingkungan sehat dan lingkungan tidak sehat di lingkungan sekitar serta cara menjaga kesehatan lingkungan dalam bentuk teks tulis , lisan atau visual

PPKn

1.4 Menerima sikap sesuai dengan makna bersatu dalam keberagaman di rumah dan di sekolah

2.4 Menerima makna bersatu dalam keberagaman di rumah dan sekolah

3.4 Memahami makna bersatu dalam keberagaman di rumah dan sekolah

4.4 Menceritakan pengalaman bersatu dalam keberagaman di rumah dan sekolah

Pembelajaran 6

Matematika

3.10 Menjelaskan bangun datar dan bangun ruang berdasarkan ciri – cirinya

4.10 Mengklasifikasikan bangun datar dan bangun ruang berdasarkan ciri - cirinya

TUJUAN PEMBELAJARAN

1. Melalui pengamatan gambar, siswa menyimpulkan isi gambar
2. Melalui pengamatan , siswa dapat menilai manfaat dan akibat apabila bersatu dalam keberagaman di tempat bermain sekitar rumah dengan benar.
3. Dengan membaca teks pendek “ Kesehatan Badan Perlu di Jaga “, siswa dapat menyimpulkan informasi yang terdapat dalam bacaan tersebut.
4. Melalui penugasan, siswa dapat menuliskan laporan pengamatan sederhana tentang cara menjaga kesehatan lingkungan
5. Dengan mengamati gambar, siswa dapat Menghubungkan benda di sekitar dengan bangun ruang
6. Dengan mengamati gambar bangun ruang, siswa dapat menemukan banyaknya rusuk, sisi dan titik sudut pada bangun ruang

Petunjuk belajar

1. Berdoalah sebelum belajar
2. Minta bantuan anggota keluarga untuk mendampingi belajar
 - Minta tolong dengan bahasa yang sopan
 - Berani bertanya
3. Pelajari materinya dan kerjakannlah latihannya dengan benar
 - Mengerjakan tugas dengan tertib
 - Membereskan buku
 - Mengucapkan terima kasih pada yang mendampingi belajar
4. Bertanyalah pada orang tua atau gurumu apabila menemukan selitan dalam belajar

Persatuan

Persatuan dan kesatuan adalah penopang keutuhan pada lingkup manapun. Oleh sebab itu maka penting untuk menjaga persatuan dan kesatuan tersebut melalui perilaku atau sikap sehari-hari.

Berikut ini adalah 5 contoh sikap yang harus dimiliki agar terwujud persatuan dalam bermain bersama teman-teman:

1. Saling **menghargai dan menghormati** hak satu sama lain
2. Menjalankan permainan dengan **jujur**, tidak curang
3. **Sportif**, artinya bila kalah maka mengakui kekalahan tersebut dengan jiwa besar
4. **Tidak memaksakan kehendak** kepada teman ketika bermain bersama-sama
5. **Tidak pilih-pilih teman** saat bermain. Hanya mau bermain bersama teman seagama, sesuku, sedaerah dan sebagainya adalah perilaku yang tidak mencerminkan persatuan dan merupakan bibit perpecahan
6. **Adil**, artinya berperilaku sesuai dengan semestinya, memihak pada kebenaran ketika bermain

Udin, Edo, dan Beni bermain kelereng di halaman rumah.

Dayu, Lani, Siti, dan Mey juga bermain lompat tali di sana.

Walaupun berbeda agama, mereka bermain dengan rukun.

Sikap mereka pantas untuk ditiru.

Ayo Mengamati



Amatilah gambar di bawah dengan teliti!



Informasi apa yang dapat kamu peroleh dari gambar di atas?
Sikap apa yang ditunjukkan Dayu dan teman-teman?

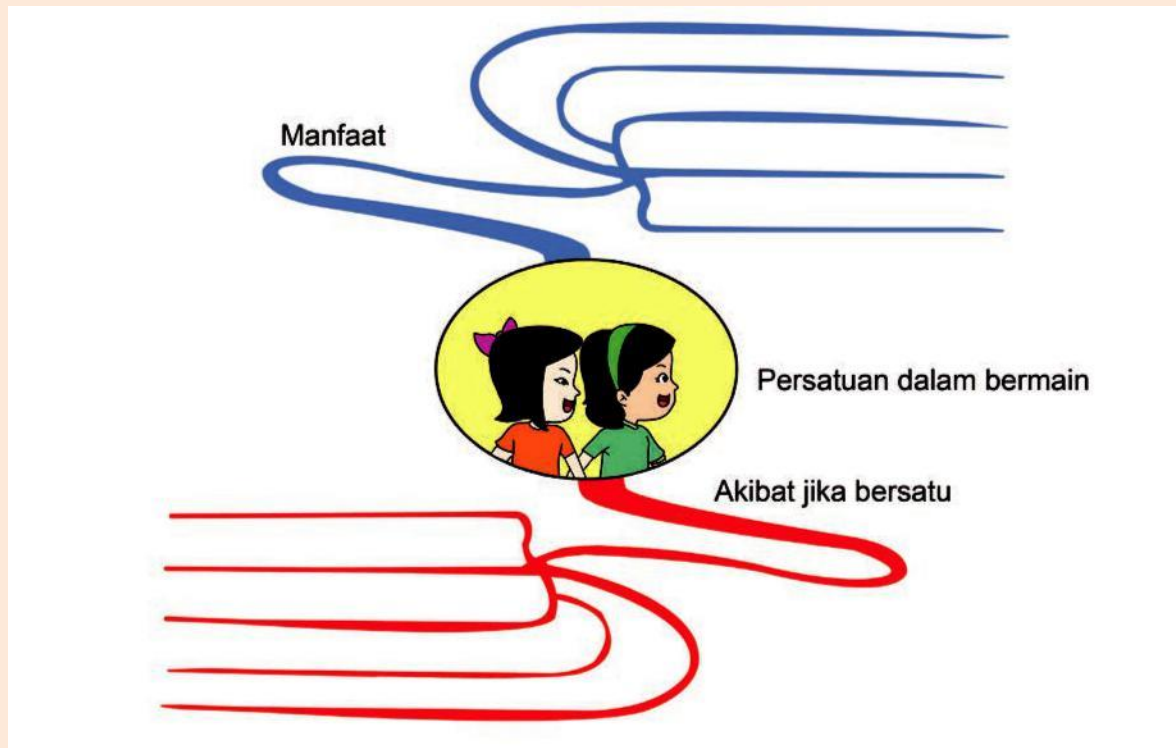
Dayu dan teman-teman menunjukkan kebersamaan dalam bermain.

Kebersamaan merupakan wujud persatuan.

Apa manfaat persatuan ketika bermain?

Apa pula akibat yang kamu peroleh jika tidak bersatu ketika bermain?

Coba diskusikan dengan teman-temanmu!



Apa manfaat adanya persatuan dalam bermain?

Apa akibatnya jika bersatu dalam bermain?

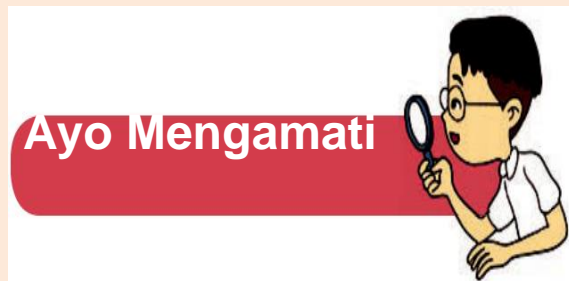
Tulislah jawabannya di bawah ini!

Kesehatan Badan

Kesehatan merupakan sebuah kondisi yang stabil atau umum dalam sistem koordinasi badan dan jiwa raga manusia atau makhluk hidup lainnya pada rata – rata normal. Kesehatan badan juga disebut dengan kesehatan jasmani.

Banyak cara yang dapat dilakukan agar badan kita sehat diantaranya


1. pola makan yang bergizi dan sehat
2. berolah raga
3. mandi teratur
4. mencuci tangan sebelum dan sesudah makan
5. Pola tidur secukupnya
6. Usahakan untuk selalu berpikir positif



Bermain kelereng dan bermain tali dapat membuat tangan kotor.

Tangan harus dicuci setelah bermain.

Dengarkan temanmu membaca teks percakapan berikut!



Bacalah teks berikut dengan nyaring!

Kesehatan Badan Perlu Dijaga

Menjaga kesehatan badan itu penting. Hal ini dilakukan agar terhindar dari penyakit. Penyakit akan mudah datang apabila kurang memperhatikan kesehatan badan. Jika badan sakit, semua kegiatan akan terganggu. Nafsu makan pun akan berkurang.

Banyak cara yang dapat dilakukan untuk menjaga kesehatan badan. Kita harus mandi secara teratur. Kita dapat menggunakan sabun mandi agar lebih bersih. Selain itu, kita harus mencuci tangan sebelum makan. Mencuci kaki sebelum tidur. Menggosok gigi setelah makan dan sebelum tidur. Dengan demikian, badan akan menjadi bersih dan sehat.

Informasi apa yang kamu peroleh dari isi teks di atas?

Amati gambar di bawah ini dengan teliti!



Informasi apa sajakah yang dapat kamu peroleh dari kegiatan seperti gambar tersebut?

Ayo Menulis



Tuliskan hasil pengamatanmu terhadap gambar pada kolom berikut!

Cara Menjaga Kesehatan Badan

A large rectangular box with a green border and horizontal dashed lines for writing.



Bangun Ruang

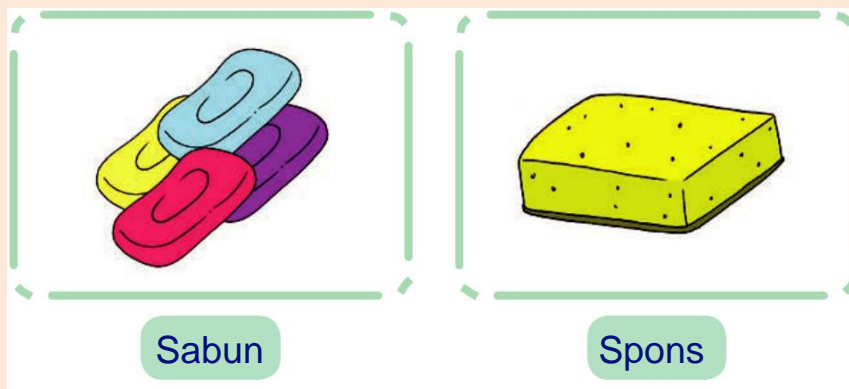
Bangun ruang memiliki tiga komponen berupa rusuk, sisi dan titik sudut.

Rusuk adalah pertemuan dua sisi yang membentuk ruas garis.

Sisi adalah bidang pembatas yang memisahkan bangun ruang dan ruang di luarnya.

Titik sudut adalah titik pertemuan dari tiga rusuk atau lebih.

Amati gambar di bawah dengan teliti!



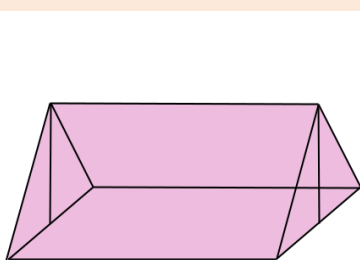
Gambar sabun dan spons berbentuk balok.

Balok merupakan contoh bangun ruang.

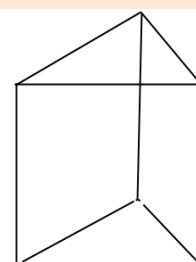


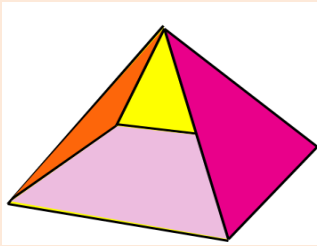
Tahukah kamu bentuk bangun-bangun ruang yang lain?

Amati gambar di bawah ini!

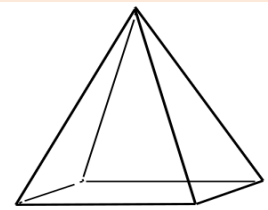


Bangun ini berbentuk prisma

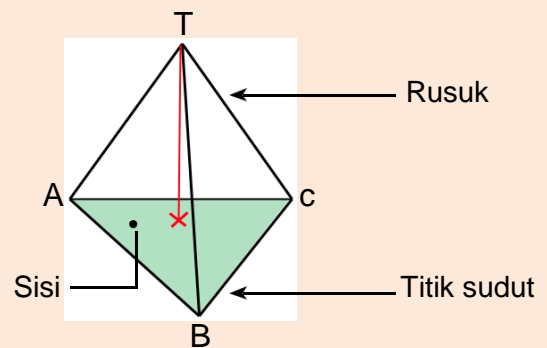
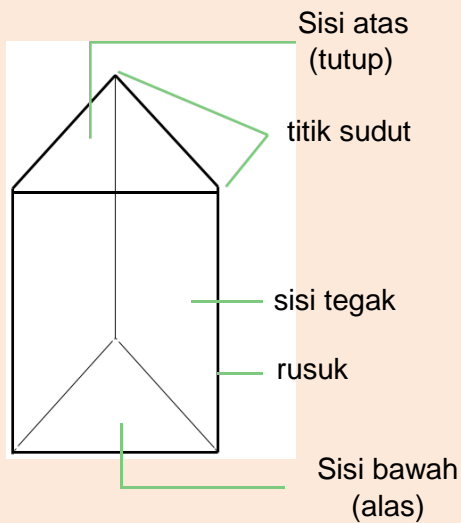




Bangun ini
berbentuk limas



Masih ingatkah kamu tentang rusuk, sisi, dan titik sudut pada bangun ruang?

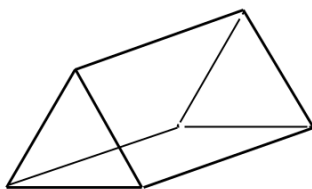


Ayo Berlatih



Hitunglah banyak rusuk, sisi, dan titik sudut pada bangun ruang berikut!

1.



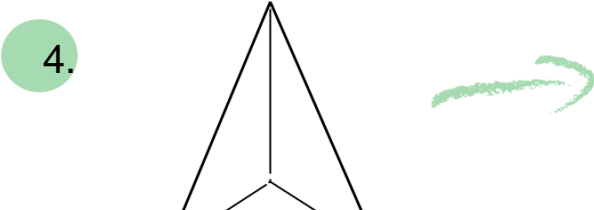
Banyak Rusuk : ...
Banyak Sisi : ...
Banyak Titik Sudut : ...

2. 

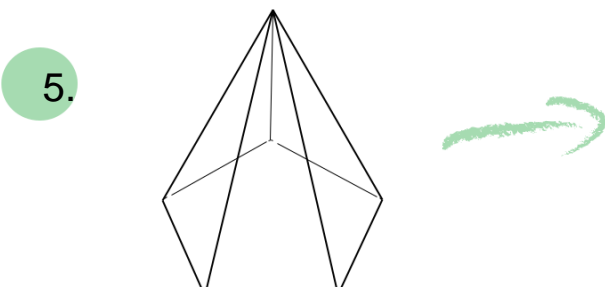
Banyak rusuk : ...
 Banyak Sisi : ...
 Banyak Titik Sudut : ...

3. 

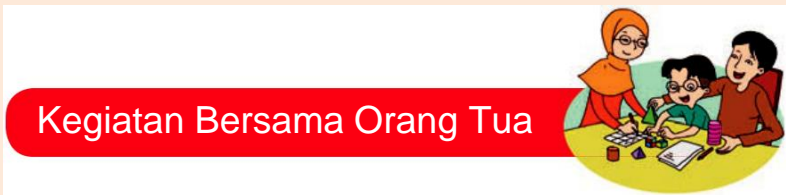
Banyak Rusuk : ...
 Banyak Sisi : ...
 Banyak Titik Sudut : ...

4. 

Banyak Rusuk : ...
 Banyak Sisi : ...
 Banyak Titik Sudut : ...

5. 

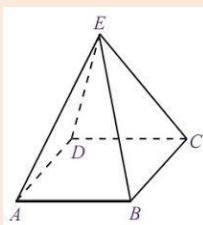
Banyak Rusuk : ...
 Banyak Sisi : ...
 Banyak Titik Sudut : ...



Orang tua membimbing siswa menemukan berbagai benda di sekitar yang berbentuk prisma dan limas serta menghitung banyak rusuk, sisi, dan titik sudutnya.

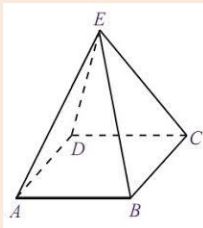
Evaluasi

1. Kegiatan berikut yang dapat mempererat persatuan adalah....
 - a. Memilih-milih teman
 - b. Bermain dengan semua teman
 - c. Membeda-bedakan teman saat bermain
2. Akibat tidak adanya rasa persatuan saat bermain adalah....
 - a. Hidup menjadi bahagia
 - b. Sering terjadi perselisihan
 - c. Suasana bermain sangat nyaman
3. Permainan kelompok merupakan jenis permainan yang membutuhkan....
 - a. Kerjasama
 - b. Kepandaian
 - c. Biaya mahal
4. Mira dan Ayu mempunyai perbedaan. Dalam berteman mereka tidak boleh....
 - a. Saling membantu
 - b. Membeda-bedakan
 - c. Saling percaya
5. Setelah bermain yang harus kita lakukan adalah...
 - a. Makan
 - b. Tidur
 - c. Membersihkan diri dengan air dan sabun
6. Berikut adalah cara menjaga kesehatan badan, kecuali..
 - a. mandi secara teratur
 - b. Mencuci tangan sebelum makan
 - c. Tidak mencuci tangan setelah bermain
7. Sabun batang berbentuk...
 - a. limas
 - b. prisma
 - c. balok
8. Bangun ruang dibawah ini namanya...



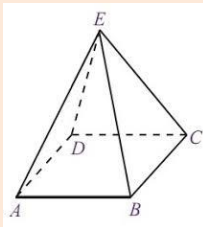
- a. Balok b. Limas segi tiga c. Limas segi empat

9 . Bangun di bawah ini memiliki..... titik sudut



a. 5 b. 6 c. 4

10. Bangun di bawah ini memiliki sisi



a. 4 b.5 c.6

Kunci jawaban

1. b
2. b
3. a
4. b
5. c
6. c
7. c
8. c
9. a
10. b

Daftar Pustaka

Tim Abdi Guru.2006.Kreasi Seni Budaya dan Keterampilan untuk SD kelas II.Jakarta:Erlangga

Kementerian Pendidikan dan Kebudayaan.2017.Buku siswa Hidup Bersih dan Sehat untuk SD kelas II.Jakarta:Intan Pariwara

Kementerian Pendidikan dan Kebudayaan.2017.Buku Guru Hidup Bersih dan Sehat untuk SD kelas II.Jakarta:Intan Pariwara

Pica,Rea.2012.Permainan-permainan Pengembangan Karakter Anak –anak.Jakarta:indeks

