



Pembelajaran kelas 2 tema 3

OLEH : Lilik Ponikah, S.Pd.SD

PETUNJUK MENGERJAKAN SOAL

- ✓ Berdo'alah sebelum mengerjakan
- ✓ Kerjakan soal secara berurutan dan sesuai petunjuk
- ✓ Bertanyalah kepada guru apabila ada kesulitan

SELAMAT MENGERJAKAN





Kegiatan 1

Anak-anak mari kita mengamati gambar denah rumah sederhana di samping !





1. Sesuai dengan gambar maka kita dapat mengetahui bahwa disebelah kanan rumah siti terdapat rumah dan disebelah kirinya terdapat rumah, sedangkan di depan rumah Siti terdapat



Hebat sekali anak-anak! Kalian sudah bisa menjelaskan gambar sebelumnya, sekarang mari kita membaca teks di bawah ini!

Siti tinggal di jalan Ki Hajar Dewantara nomor 25
Di sebelah kanan rumah Siti, ada rumah Adi
Di sebelah kiri rumah Siti, ada rumah Ayu
Di depan rumah siti, ada musala
Rumah Siti terletak tidak jauh dari sekolah
Siti berangkat ke sekolah diantar Ayah
Kadang, Siti pergi ke sekolah naik angkutan umum
Ongkos angkutan dari rumah ke sekolah seribu rupia
h

2. Jadi, sesuai teks di atas kita dapat mengetahui bahwa Adi tinggal di sebelah rumah Siti. Sedangkan Ayu tinggal di sebelahrumah Siti. Rumah Siti beralamat di jalan..... Apabila Siti naik angkutan umum dari rumah menuju sekolah, Siti harus membayar sebesar Rp.....



Next

Kegiatan 2

Setiap hari anak-anak mendapatkan uang saku dari orang tua. Uang saku anak-anak terkadang tidak habis dan kalian simpan. Siti juga demikian, ia memiliki beberapa sisa uang saku yang ia simpan. Sekarang, mari kita membaca pecahan uang yang dimiliki Siti pada kotak di bawah ini!

Mengenal Pecahan Nilai Uang

Uang Logam



Uang seratus rupiah

ditulis : Rp100,00

dibaca : seratus rupiah



Uang dua ratus rupiah

ditulis : Rp200,00

dibaca : dua ratus rupiah



Uang lima ratus rupiah

ditulis : Rp500,00

dibaca : lima ratus rupiah



Uang seribu rupiah

ditulis : Rp1.000,00


dibaca : seribu rupiah




Next


Kerjakan soal di bawah ini !


Soal no 1

Setelah membaca pecahan uang saku Siti maka uang  dapat ditulis

Rp....., dan dibaca

 dapat ditulis Rp..... dan dibaca

 dapat ditulis Rp..... dan dibaca

 dapat ditulis Rp..... dan dibaca



Soal no 2.

- Siti ingin membandingkan pecahan uang yang dimilikinya. Mari anak-anak kita membantu Siti.



lebih besar dari



Jadi, dua ratus rupiah seratus rupiah.

Sedangkan



lebih kecil dari



Jadi, lima ratus rupiah seribu rupiah.



Next 

Soal no 3.

- Setelah membandingkan uangnya, Siti ingin mengurutkan uangnya mulai dari yang terkecil.
Bantulah Siti mengurutkan uangnya mulai dari yang kecil dengan cara memberi angka urutan pada kotak di bawah uang logam.



Jadi, untuk mengurutkan nilai uang kita dapat menuliskan uang yang nilainya lebih kecil ke nilai yang lebih



Kegiatan 3

Anak-anak sekarang kita main yuuk....

Kita akan membuat bunyi yang berulang-ulang dari anggota tubuh kita. Perhatikan pola birama di bawah ini!

Pola Ketukan Birama

a.	O.. /	O.. /	O..	b.	.00 /	.00 /	.00
	123	123	123		123	123	123
	TKK	TKK	TKK		KTT	KTT	KTT



Next

Pola Ketukan Birama

a. 0.. / 0.. / 0.. b. .00 / .00 / .00
123 123 123 123 123 123
TKK TKK TKK KTT KTT KTT



1. Cara bermainnya adalah dengan menepukkan tangan dan menghentakkan kaki. Tanda T untuk tepuk tangan dan tanda K untuk menghentakkan kaki.
2. Segeralah untuk menepukkan tangan dan menghentakkan kaki secara berulang sesuai dengan pola ketukan birama di atas. Lakukan dengan penuh semangat ya....
3. Jadi, setelah melakukan kegiatan di atas anak-anak dapat mengetahui untuk memainkan ketukan birama kita dapat melakukan gerakan yang secara.....
.....

Selesai





PEMBELAJARAN
KELAS 2 TEMA 3
SUB TEMA 1
PEMBELAJARAN 3

OLEH : Lilik Ponikah, S.Pd.SD

PETUNJUK MENGERJAKAN

1. Berdo'alah sebelum mengerjakan
2. Kerjakan soal secara berurutan dan sesuai dengan petunjuk
3. Bertanyalah kepada guru apabila ada kesulitan



kegiatan 1

1. Anak-anak mari kita perhatikan gambar kegiatan Siti dan Ibunya pada pagi hari!



2. Jadi, dari gambar diatas bisa diketahui bahwa kegiatan Siti setiap pagi adalah Dan, sedangkan ibu Siti memiliki kegiatan



kegiatan 2

1. Anak-anak pintar, mari kita baca teks di bawah ini!

Siti anak yang rajin.
Setiap pagi, Siti bangun sendiri.
Siti langsung merapikan tempat tidur.
Siti, Ali, ayah, dan ibu kemudian berkumpul untuk melaksanakan ibadah salat subuh.
Ibu memasak sayur untuk sarapan.
Siti membantu ibu menyiapkan sarapan.
Ayah mencuci sepeda motor.
Ali membantu ayah.



Kegiatan 3

1. Anak-anak, Siti memiliki beberapa lembar uang kertas di celengannya. Celengan Siti dibuka karena uangnya akan ditabung ke bu guru. Perhatikan gambar di bawah ini untuk mengetahui berapa nilai mata uang yang dimiliki oleh Siti.

	Uang seribu rupiah ditulis : Rp1.000,00 dibaca : seribu rupiah
	Uang dua ribu rupiah ditulis : Rp2.000,00 dibaca : dua ribu rupiah
	Uang lima ribu rupiah ditulis : Rp5.000,00 dibaca : lima ribu rupiah
	Uang sepuluh ribu rupiah ditulis : Rp10.000,00 dibaca : sepuluh ribu rupiah

	Uang dua puluh ribu rupiah ditulis : Rp20.000,00 dibaca : dua puluh ribu rupiah
	Uang lima puluh ribu rupiah ditulis : Rp50.000,00 dibaca : lima puluh ribu rupiah
	Uang seratus ribu rupiah ditulis : Rp100.000,00 dibaca : seratus ribu rupiah







Pembelajaran kelas 2 tema 3 Sub Tema 2

OLEH : Lilik Ponikah, S.Pd.SD

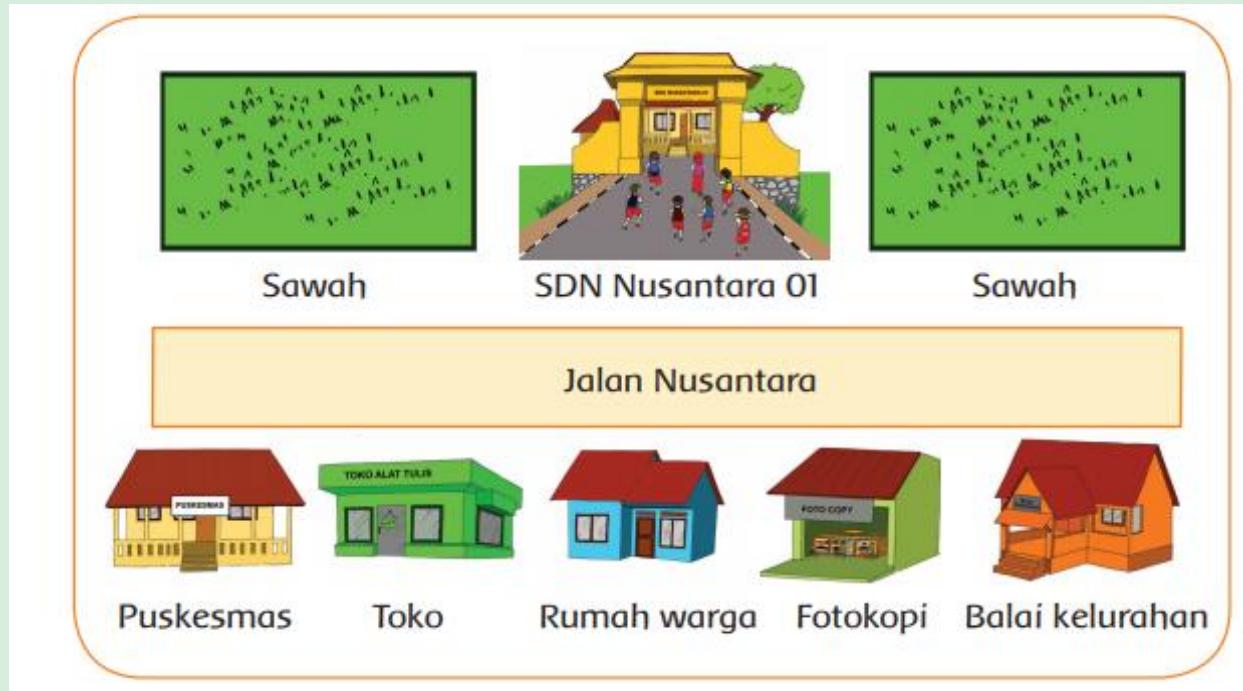
PETUNJUK MENGERJAKAN SOAL

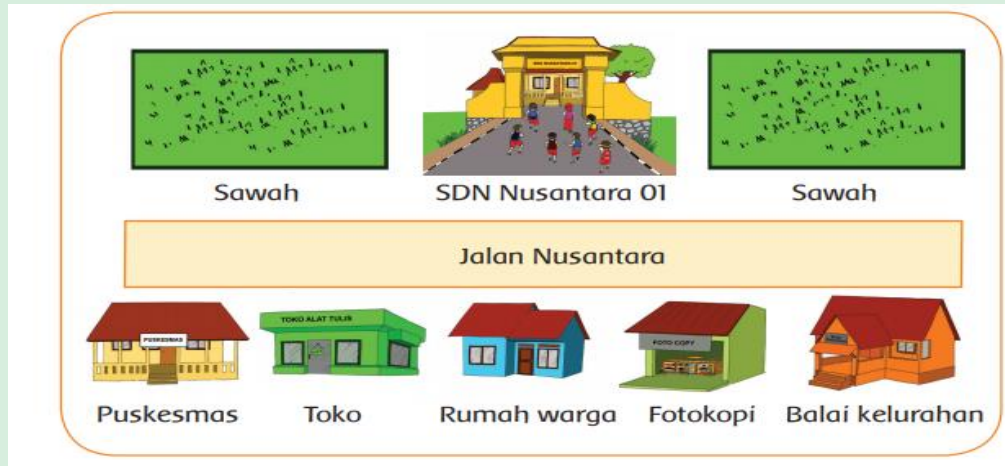
Berdo'alah sebelum mengerjakan
Kerjakan soal secara berurutan dan sesuai dengan petunjuk
Bertanyalah kepada guru apabila ada kesulitan



Kegiatan 1

1. Anak-anak, Siti ingin berangkat ke sekolah dengan berjalan kaki. Siti memiliki denah yang menunjukkan letak sekolahnya. Perhatikan denah di bawah ini untuk mengetahui letak sekolah Siti.





2. Dari gambar denah di atas, dapat diketahui bahwa sekolah Siti terletak di Jalan...
3. Berdasarkan gambar denah di atas, sekolah Siti berada di sawah.
4. Jadi, ketika Siti akan berangkat ke sekolah harus berjalan ke arah... .



Kegiatan 3

1. Anak-anak, perhatikan gambar gerakan tari di bawah ini kemudian kalian dapat menirukan gerakannya.

	Posisi sikap awal menari kaki merapat, badan tegap		Posisi tangan lurus ke bawah, badan tegap
	Gerak menekuk tangan ke samping		Gerak menekuk tangan ke atas
	Posisi kaki berjingkat		Gerak mengangkat kaki



SELESAI

