

NAMA : ZULAECHAH INDRA IRAWATI

4.6.2.2 PENGEMBANGAN LKPD

Saudara akan mengembangkan LKPD sesuai kurikulum yang berlaku. Hal-hal yang harus diperhatikan dalam pengembangan bahan ajar :

- 1) LKPD yang relevan sesuai dengan RPP
- 2) Perangkat pembelajaran berupa LKPD untuk 3 pertemuan
- 3) LKPD sudah memuat unsur-unsur TPACK
- 4) LKPD yang dapat meningkatkan pengalaman siswa untuk menyelesaikan masalah yang berhubungan dengan kehidupan sehari-hari
- 5) LKPD yang dapat meningkatkan keaktifan dan kemandirian siswa
- 6) LKPD yang membuat siswa dapat mengkonstruksi informasi dan konsep materi yang diberikan

Jawab :

PENGEMBANGAN LKPD RPP 1

- Judul Kegiatan/LKPD
- Tema
- Kelompok usia & semester
- Kompetensi Dasar/Tujuan Pembelajaran/Indikator
- Petunjuk pengerjaan
- Uraian LKPD (langkah kerja, soal, dll)
- Penilaian

PENGEMBANGAN LKPD RPP 2

- Judul Kegiatan/LKPD
- Tema
- Kelompok usia & semester
- Kompetensi Dasar/Tujuan Pembelajaran/Indikator
- Petunjuk pengerjaan
- Uraian LKPD (langkah kerja, soal, dll)
- Penilaian


PENGEMBANGAN LKPD RPP 3

- Judul Kegiatan/LKPD
- Tema
- Kelompok usia & semester
- Kompetensi Dasar/Tujuan Pembelajaran/Indikator
- Petunjuk pengerjaan
- Uraian LKPD (langkah kerja, soal, dll)
- Penilaian

PENGEMBANGAN LKPD RPP 1

Nilai Agama dan Moral	Alam Semesta	Hari : _____ Tanggal : _____
1.1 Mempercayai adanya Tuhan melalui ciptaan-Nya - Terbiasa menyebut nama Tuhan sebagai pencipta		

Siapakah pencipta matahari, bulan dan bintang ?
beri tanda centang (✓) pada jawaban yang benar
kemudian warnailah gambarnya



- Tuhan Yang Maha Esa
- Nabi
- Manusia

Paraf Orang Tua	Paraf Guru	Nilai
-----------------	------------	-------

Bahasa

Alam Semesta


Hari : _____
Tanggal : _____

3.12 Mengenal keaksaraan awal melalui bermain
4.12 Menunjukkan kemampuan keaksaraan awal dalam berbagai bentuk karya
- membaca gambar / membaca simbol
- mengenali huruf awal / menuliskan huruf namanya

Tulislah nama gambar sesuai dengan contohnya




matahari



bulan



bintang



awan

Paraf Orang Tua

Paraf Guru

Nilai

Kognitif

Alam Semesta

Hari : _____
Tanggal : _____

3.5 Mengetahui cara memecahkan masalah sehari-hari dan berperilaku kreatif

4.5 Menyelesaikan masalah sehari-hari secara kreatif

Hitunglah gambar bulan, pelangi, dan matahari
Tulis angka sesuai jumlah pada lingkaran yang tersedia



Paraf Orang Tua

Paraf Guru

Nilai

PENGEMBANGAN LKPD RPP 2

Kognitif

Air, Udara, Api

Hari : _____
Tanggal : _____

3.7 Mengenal lingkungan sosial
4.7 Menyajikan berbagai karyanya dalam bentuk gambar

Apa guna air ?
mandi minum cuci tangan memasak

isilah titik-titik di bawah ini sesuai guna air pada gambar

.....



.....



.....



.....



Paraf Orang Tua

Paraf Guru

Nilai

Bahasa

Air, Udara, Api

Hari : _____
Tanggal : _____

3.10 Memahami bahasa reseptif

4.10 Menunjukkan kemampuan berbahasa reseptif

jawablah pertanyaan di bawah ini

1. apa yang sedang dilakukan anak pada gambar di bawah ini ?
2. dengan siapa anak menyiram tanaman ?
3. ada berapa tanaman yang disiram ?



Paraf Orang Tua

Paraf Guru

Nilai

Seni

Air, Udara, Api


Hari : _____
Tanggal : _____

3.15 Mengenal berbagai karya dan aktivitas seni

4.15 Menunjukkan karya dan aktivitas seni dengan menggunakan berbagai media

warnailah tulisan dan gambar di bawah ini

siklus air



Paraf Orang Tua

Paraf Guru

Nilai


PENGEMBANGAN LKPD RPP 3



Hari : _____
Tanggal : _____

- 3.15 Mengenal berbagai karya dan aktivitas seni
- 4.15 Menunjukkan karya dan aktivitas seni dengan menggunakan berbagai media

sobek daun kering di sekitar kamu kemudian tempel pada gambar pohon



Bahasa

Tanaman

Hari : _____
Tanggal : _____

3.12 Mengenal keaksaraan awal melalui bermain

4.12 Menunjukkan kemampuan keaksaraan awal dalam berbagai bentuk karya

bagian tanaman :


akar

batang

bunga

daun

biji



Paraf Orang Tua

Paraf Guru

Nilai

Kognitif

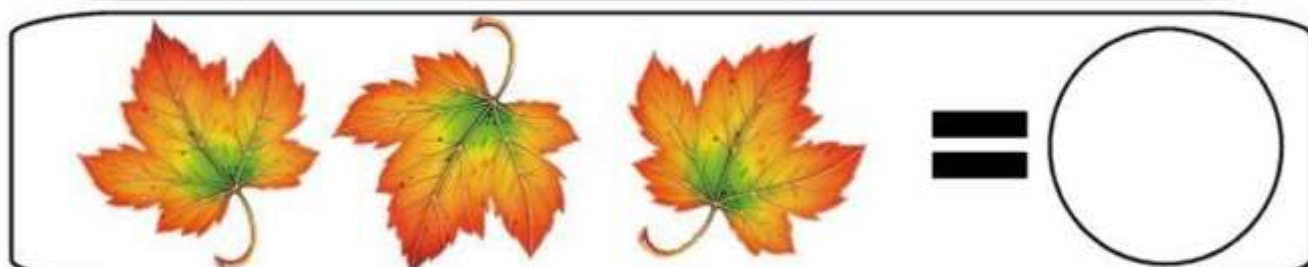
Tanaman

Hari : _____
Tanggal : _____

3.5 Mengetahui cara memecahkan masalah sehari-hari dan berperilaku kreatif

4.5 Menyelesaikan masalah sehari-hari secara kreatif

hitunglah gambar daun di bawah ini kemudian tulis lambang bilangannya



Paraf Orang Tua

Paraf Guru

Nilai