



**KOORDINATOR WILAYAH KECAMATAN BIDANG PENDIDIKAN KECAMATAN SRAGEN**

**JL. RAYA SUKOWATI NO. 158 SRAGEN TELP. 0271-891795**

**PENILAIAN TENGAH SEMESTER 2  
TAHUN PELAJARAN 2019/2020**

Kelas : I (Satu)  
Muatan Pelajaran : Matematika


Hari, Tanggal : .....  
Waktu : .....

**I. Berilah tanda silang (x) pada huruf a, b, atau c pada lembar jawab yang disediakan!**

- 1. Lambang bilangan dua puluh tiga adalah ....
  - a. 13
  - b. 23
  - c. 32




- 2. 46 dibaca ....
  - a. empat puluh enam
  - b. empat enam
  - c. enam puluh empat

- 3. Banyaknya sendok ada ....



- a. 20
- b. 21
- c. 22

- 4. Wortel yang berjumlah 19 adalah ....



5. Sebelum bilangan 63 adalah ....

- a. 62
- b. 64
- c. 66

6. Setelah bilangan 89 adalah ....

- a. 88
- b. 90
- c. 92

7. Angka 1 pada bilangan tersebut menempati nilai ....



- a. ratusan
- b. puluhan
- c. satuan

8. Angka yang menempati nilai satuan pada bilangan tersebut adalah ....



- a. 3
- b. 5
- c. 8

9. Hasil dari 3 puluhan + 9 satuan adalah ....

- a. 39
- b. 40
- c. 41

10. 71 sama dengan ....

- a. 1 puluhan + 7 satuan
- b. 7 puluhan + 0 satuan
- c. 7 puluhan + 1 satuan

11.



- a. lebih sedikit
- b. sama dengan
- c. lebih banyak

12. Banyak nangka ada 48 buah.

Banyak durian ada 37 buah.

Pernyataan yang benar adalah ....

- a. Nangka lebih sedikit daripada durian
- b. Nangka sama banyak dengan durian
- c. Nangka lebih banyak daripada durian

13. 34 - 45 - 56 - 65 - 54 - 43  
Urutan bilangan dari yang terkecil adalah ....
- 34 - 43 - 45 - 54 - 56 - 65
  - 43 - 34 - 54 - 45 - 65 - 56
  - 65 - 56 - 54 - 45 - 43 - 34

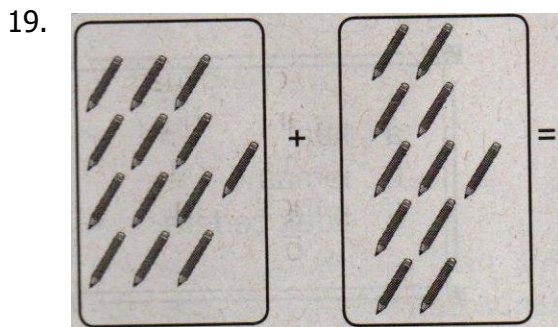
14. Urutan bilangan dari yang terbesar adalah ....
- 96 - 60 - 84 - 72
  - 96 - 84 - 72 - 60
  - 60 - 72 - 84 - 96

15.  $86$   
 $\underline{53}$  -  
....
- 33
  - 35
  - 37

16.  $53$   
 $\underline{35}$  +  
....
- 84
  - 86
  - 88

17. Ayah memiliki 35 buku.  
Ayah membeli lagi 12 buku.  
Banyak buku ayah ada ....
- 45
  - 47
  - 49

18. Kakak memiliki 43 pensil warna.  
Adik memiliki 54 pensil warna.  
Jumlah bola mereka adalah ....
- 93
  - 95
  - 97



- 23
- 24
- 25

20. Benda yang berbentuk segiempat adalah ....

- a. Kancing baju
- b. Papan tulis
- c. Sepatu

21. Benda yang berbentuk segitiga adalah ....

a.



b.



c.



22. Roda berbentuk ....

- a. Lingkaran
- b. Segiempat
- c. Segitiga

23. Benda berikut yang paling ringan adalah ....


- a. Bulu ayam
- b. Meja
- c. Sandal

24. Antara pensil, tas, dan topi yang paling berat adalah ....


- a. Pensil
- b. Tas
- c. Topi

25. Timbangan untuk menimbang berat badan adalah ....

a.



b.



c.



## II. Isilah titik-titik di bawah ini dengan jawaban yang tepat!


26. Lambang bilangan enam puluh enam adalah ....

27. Banyak nanas ada ... buah.



28. Angka 8 pada bilangan 58 menempati nilai ....

29.  $87 - 12 - 90 - 56 - 43$   
Urutan bilangan dari yang terbesar adalah ....
30.  $68$   
21 +  
....
31.  $79$   
37 -  
....
32. Lukisan dinding berbentuk ....
33. Benda tersebut berbentuk ....



34. Antara buku, penggaris, dan sepatu yang paling ringan adalah ....
35. Urutan dari yang paling berat adalah ....



**III. Jawablah pertanyaan-pertanyaan di bawah ini dengan tepat!**

36.  $35 = \dots$  puluhan +  $\dots$  satuan  
 $42 = \dots$  puluhan +  $\dots$  satuan +  
 $= \dots$  puluhan +  $\dots$  satuan  
 $= \dots$

Berapa hasilnya?

**Jawab :** .....

37.  $29 - 23 - 38 - 17 - 40$   
Bagaimana urutan bilangan dari yang terkecil?

**Jawab :** .....

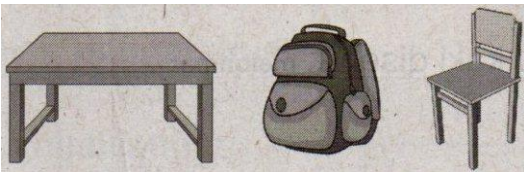
38. Ibu membeli 23 mangga. Kemudian ibu membeli 16 jambu.  
Berapa buah yang dibeli ibu seluruhnya?

**Jawab :** .....

39. Bagaimana bentuk uang koin?

**Jawab :** .....

40. Bagaimana urutan dari yang paling berat?



**Jawab :** .....

---Selamat mengerjakan!---

**KUNCI JAWABAN PTS 2 MUPEL MATEMATIKA KELAS I  
TAHUN PELAJARAN 2019/2020**

- I.     1. B(3.1)     6. B (3.1)     11. A (3.3)     16. C (3.4)     21. B (3.7)  
       2. A(3.1)     7. B (3.2)     12. C (3.3)     17. B (3.4)     22. A (3.7)  
       3. C(3.1)     8. A (3.2)     13. A (3.3)     18. C (3.4)     23. A (3.8)  
       4. B(3.1)     9. A (3.2)     14. B (3.3)     19. B (3.4)     24. B (3.8)  
       5. A(3.1)     10. C (3.2)    15. A (3.4)     20. B (3.7)     25. C (3.8)
- II.    26. 66 (3.1)  
       27. 27 (3.1)  
       28. Satuan (3.2)  
       29.  $90 - 87 - 56 - 43 - 12$  (3.3)  
       30. 89 (3.4)  
       31. 42 (3.4)  
       32. Segiempat (3.7)  
       33. Segitiga (3.7)  
       34. Penggaris (3.8)  
       35. Nanas, apel, tomat (3.8)
- III.   36.     35     = 3 puluhan + 5 satuan  
          42     = 4 puluhan + 2 satuan +  
                  = 7 puluhan + 7 satuan  
                  = 77 (3.2)  
       37.  $17 - 23 - 29 - 38 - 40$  (3.3)  
       38.  $23 + 16 = 39$  (3.4)  
       39. Lingkaran (3.7)  
       40. Meja, kursi, tas (3.8)

**PEDOMAN PENILAIAN PTS 2 MUPEL MATEMATIKA KELAS I  
TAHUN PELAJARAN 2019/2020**

NO	KD	RUM			NILAI
		I	II	III	
1	3.1	1 – 6 (6soal)	26 – 27 (2soal)	-	Rum I = $6 \times 1 = 6$ Rum II = $2 \times 2 = 4$ Skor total = 10 Nilai = (skor perolehan : 10) x 100
2	3.2	7 – 10 (4soal)	28 (1soal)	36 (1soal)	Rum I = $4 \times 1 = 4$ Rum II = $1 \times 2 = 2$ Rum III = $1 \times 3 = 3$ Skor total = 9 Nilai = (skor perolehan : 9) x 100
3	3.3	11 – 14 (4soal)	29 (1soal)	37 (1soal)	Rum I = $4 \times 1 = 4$ Rum II = $1 \times 2 = 2$ Rum III = $1 \times 3 = 3$ Skor total = 9 Nilai = (skor perolehan : 9) x 100
4	3.4	15 – 19 (5soal)	30 – 31 (2soal)	38 (1soal)	Rum I = $5 \times 1 = 5$ Rum II = $2 \times 2 = 4$ Rum III = $1 \times 3 = 3$ Skor total = 12 Nilai = (skor perolehan : 12) x 100
5	3.7	20 – 22 (3soal)	32 – 33 (2soal)	39 (1soal)	Rum I = $3 \times 1 = 3$ Rum II = $2 \times 2 = 4$ Rum III = $1 \times 3 = 3$ Skor total = 10 Nilai = (skor perolehan : 10) x 100
6	3.8	23 – 25 (3soal)	34 – 35 (2soal)	40 (1soal)	Rum I = $3 \times 1 = 3$ Rum II = $2 \times 2 = 4$ Rum III = $1 \times 3 = 3$ Skor total = 10 Nilai = (skor perolehan : 10) x 100
Total		25 soal	10 soal	5 soal	

Mengetahui,  
Kepala SD Negeri 7 Sragen

Sragen, 10 Februari 2020  
Guru Kelas I

**Kuncoro Murni, S.Pd.**  
NIP. 19621214 198310 2 002

**Nurma Susanti, S.Pd.**  
NIP. 19900508 201903 2 016