

**SUMBER BELAJAR PENUNJANG PLPG 2017  
MATA PELAJARAN/PAKET KEAHLIAN  
MATEMATIKA**

**BAB X  
BANGUN DATAR**



**Dr. Djadir, M.Pd.  
Dr. Ilham Minggu, M.Si  
Ja'faruddin, S.Pd., M.Pd.  
Ahmad Zaki, S.Si., M.Si  
Sahlan Sidjara, S.Si., M.Si**

**KEMENTERIAN PENDIDIKAN DAN KEBUDAYAAN  
DIREKTORAT JENDERAL GURU DAN TENAGA KEPENDIDIKAN  
2017**

## BANGUN DATAR

### A. Kompetensi Inti

Menguasai materi, struktur, konsep dan pola pikir keilmuan yang mendukung mata pelajaran yang diampu.

### B. Kompetensi Inti

Menguasai konsep-konsep bangun datar.

### C. Indikator Pencapaian Kompetensi

1. Mengidentifikasi jenis-jenis bangun datar.
2. Memahami rumus luas bangun datar.
3. Menerapkan rumus dari jenis-jenis bangun datar dalam pemecahan masalah.
4. Menerapkan konsep luas bangun datar dalam menyelesaikan masalah dalam kehidupan sehari-hari.

### D. Uraian Materi

#### 1. Beberapa istilah dasar dalam geometri


##### a. Titik

Titik dilambangkan dengan bulatan kecil (dot), hanya memiliki kedudukan/posisi dan tidak memiliki panjang, lebar ataupun ketebalan.

##### b. Garis

Garis dinotasikan sebagai  $\overleftrightarrow{PQ}$ , mempunyai panjang tetapi tidak memiliki lebar maupun ketebalan, garis bisa diperpanjang dikedua arahnya (arah P maupun Q). Garis bisa berupa garis lurus, melengkung ataupun kombinasi dari keduanya. Garis lurus terbentuk oleh suatu titik yang bergerak kearah yang sama sedangkan garis melengkung merupakan garis yang terbentuk dari suatu titik yang bergerak dengan arah yang selalu berubah.

Perhatikan gambar berikut



Gambar 1.1.

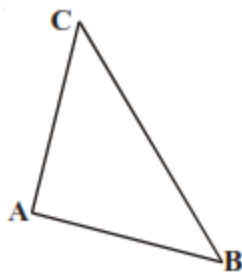
Gambar 1.1 (a) disebut sebagai sinar  $\overrightarrow{PQ}$  yang merupakan bagian dari suatu garis lurus  $\overleftrightarrow{PQ}$  yang dimulai pada suatu titik P dan diperpanjang secara tidak terbatas ke arah Q. Jika ujung P dan Q diperpanjang ke lurus tanpa batas maka diperoleh garis lurus  $\overleftrightarrow{PQ}$  (gambar 1.1 (b)).

c. Sudut

Sudut merupakan gabungan dari dua buah sinar yang memiliki titik pangkal yang sama.

## 2. Segitiga

Poligon merupakan bangun datar tertutup yang dibatasi oleh sisi-sisi yang berupa ruas garis-ruas garis lurus. Segitiga adalah poligon yang mempunyai tiga sisi. Titik Sudut (*Verteks*) adalah titik di mana dua diantara sisi-sisi segitiga tersebut bertemu.



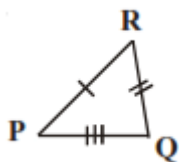
Gambar. 2.1

Gambar 2.1 merupakan contoh segitiga ABC dengan A, B dan C merupakan titik sudut dan ruas garis  $\overline{AB}$ ,  $\overline{BC}$  dan  $\overline{AC}$  merupakan sisi-sisi pada segitiga ABC.

a. Jenis-jenis segitiga berdasarkan kesamaan panjang sisi-sisinya

1). Segitiga Sebarang

Segitiga sebarang adalah segitiga yang ketiga sisi-sisinya tidak sama panjang.

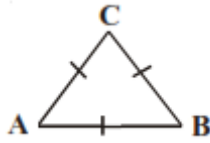


Gambar 2.2

Gambar 2.2 merupakan contoh segitiga PQR sebarang dengan panjang sisi-sisi  $\overline{PQ}$ ,  $\overline{QR}$  dan  $\overline{PR}$  tidak sama panjang.

2). Segitigasama sisi

Segitiga sama sisi adalah segitiga yang ketiga sisinya sama panjang.

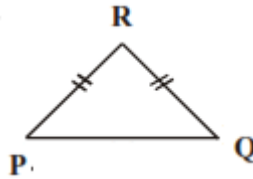


Gambar 2.3

Gambar 2.3 merupakan contoh segitiga sama sisi ABC dengan panjang sisi-sisi  $\overline{AB}$ ,  $\overline{BC}$  dan  $\overline{AC}$  sama panjang.

3). Segitiga sama kaki

Segitiga sama kaki adalah segitiga yang minimal memiliki 2 sisi yang sama panjang.



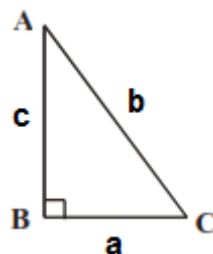
Gambar 2.4

Gambar 2.4 merupakan contoh segitiga sama kaki PQR dengan panjang sisi  $\overline{PR}$  sama dengan panjang sisi  $\overline{QR}$ .

b. Jenis-jenis segitiga berdasarkan jenis sudutnya

1). Segitiga siku-siku

Segitiga siku-siku adalah segitiga dengan salah satu sudutnya adalah sudut siku-siku (Besarnya sudut:  $90^\circ$ )



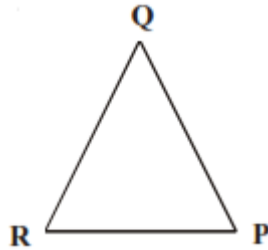
Gambar 2.5

Gambar 2.5 merupakan contoh dari segitiga siku-siku ABC dengan sudut B merupakan sudut siku-siku dengan sisi b yang berhadapan dengan sudut siku-siku tersebut disebut sebagai sisi

miring (*hypotenusa*.) Pada segitiga siku-siku berlaku teorema Pythagoras yang berbunyi kuadrat panjang sisi miring dari suatu segitiga siku-siku sama dengan jumlah kuadrat dari sisi-sisi yang lainnya atau berdasarkan gambar 2.5 diperoleh  $b^2 = a^2 + c^2$ .

## 2). Segitiga lancip

Segitiga lancip adalah segitiga yang ketiga sudutnya merupakan sudut lancip (Sudut yang besarnya diantara 0 dan  $90^\circ$ )

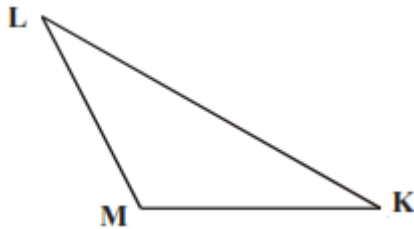


Gambar 2.6

Gambar 2.6 merupakan contoh dari segitiga lancip PQR.

## 3). Segitiga Tumpul

Segitiga tumpul adalah segitiga yang salah satu sudutnya merupakan sudut tumpul (Sudut yang besarnya antara  $90^\circ$  dan  $180^\circ$ ).



Gambar 2.7

Gambar 2.7 merupakan contoh dari segitiga tumpul.

### c. Sifat-sifat pada segitiga

- 1). Jumlahan dari dua sisi-sisinya lebih panjang dari sisi yang lainnya.
- 2). Selisih panjang dari sisi-sisinya kurang dari panjang sisi yang lain.
- 3). Jumlah sudut-sudut pada suatu segitiga adalah  $180^\circ$

Contoh:

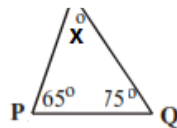
1). Diketahui  $\Delta PQR$  dengan  $\angle PQR = 75^\circ$ ,  $\angle RPQ = 65^\circ$  Tentukan besar  $\angle QRP$  dan Jenis  $\Delta PQR$ .

Jawab:

Misalkan sudut  $R$  adalah  $x^\circ$ . Perhatikan bahwa jumlah sudut pada suatu segitiga adalah  $180^\circ$ , akibatnya diperoleh

$$75^\circ + 65^\circ + x^\circ = 180^\circ \Rightarrow x^\circ = 40^\circ$$

Karna masing-masing sudutnya berada diantara  $0$  dan  $90^\circ$ , jadi jenis  $\Delta PQR$  merupakan jenis segitiga lancip.



2). Untuk setiap panjang sisi dibawah ini, Tentukan dan jelaskan manakah yang dapat membentuk suatu segitiga.

a. 3 cm , 4 cm, 5 cm.

b. 4 cm, 5 cm, 9 cm.

Jawab:

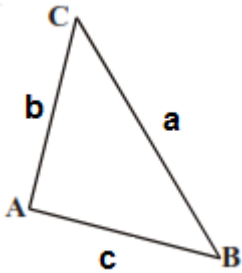
a. Dapat membentuk segitiga, sebab memenuhi sifat jumlahan dari dua sisi-sisinya lebih panjang dari sisi yang lainnya dan Selisih panjang dari sisi-sisinya kurang dari panjang sisi yang lain.

$$3 + 4 > 5, 4 + 5 > 3, 3 + 5 > 4 \text{ dan } 5 - 4 < 3, 4 - 3 < 5, 5 - 4 < 3.$$

b. Tidak dapat membentuk segitiga karena tidak memenuhi sifat jumlahan dari dua sisi-sisinya lebih panjang dari sisi yang lainnya

$$4 + 5 = 9 \text{ seharusnya } > 9$$

d. Keliling dan luas segitiga



Keliling (K) dari suatu segitiga  $ABC$  adalah  $K = a + b + c$

Dengan  $a = \overline{BC}$ ,  $b = \overline{AC}$ ,  $c = \overline{AB}$ .

Contoh: Diketahui perbandingan sisi-sisi  $\Delta ABC$  adalah 3:4:5 Dan keliling dari  $\Delta ABC$  adalah 60 cm. Tentukan panjang sisi-sisi  $\Delta ABC$ .

Jawab:

Perbandingan sisi-sisinya adalah 3:4:5 dan misalkan panjang sisinya adalah  $3p$ ,  $4p$  dan  $5p$ .

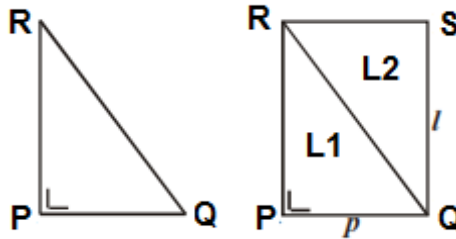
Perhatikan bahwa keliling  $\Delta ABC$  adalah 60 cm. Akibatnya

$$3p + 4p + 5p = 60 \Rightarrow 12p = 60 \Rightarrow p = 5$$

Jadi, panjang sisi-sisinya adalah

$$3p = 3 \times 5 = 15 \text{ cm}, 4p = 4 \times 5 = 20 \text{ cm} \text{ dan } 5p = 5 \times 5 = 25 \text{ cm}.$$

Luas (L) dari suatu segitiga:



Perhatikan segitiga siku-siku PQR, dengan menggunakan pendekatan luas persegi panjang

$PQSR$  yang kita ketahui luasnya adalah  $p \times l$ . Perhatikan bahwa :

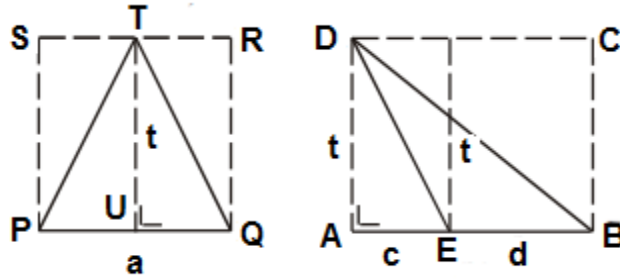
luas persegi panjang  $PQSR = L1$  (Luas  $\Delta PQR$ ) +  $L2$  (luas  $\Delta QSR$ )

$$p \times l = 2 \times L1 \text{ (Luas } L1 = \text{Luas } L2)$$

$$\frac{1}{2} \times p \times l = L1 \text{ (Luas } \Delta PQR)$$

Misal  $p = a$  (alas segitiga) dan  $l = t$  (tinggi segitiga) diperoleh  $\text{Luas } \Delta PQR = \frac{1}{2} \times a \times t$

Selanjutnya, perhatikan segitiga samakaki  $PQT$  dan segitiga sebarang  $EBD$  berikut



$$\text{Luas } \Delta PQT = \text{Luas } \Delta UQT + \text{Luas } \Delta PUT$$

$$= \frac{1}{2} \times \text{Luas } UQRT + \frac{1}{2} \times \text{Luas } PUTS$$

$$= \frac{1}{2} \times (\text{Luas } UQRT + \text{Luas } PUTS)$$

$$= \frac{1}{2} \times \text{Luas } PQRS$$

$$= \frac{1}{2} \times a \times t$$

$$\text{Luas } \Delta EBD = \text{Luas } \Delta ABD - \text{Luas } \Delta AED$$

$$= \frac{1}{2} \times (c + d) \times t - \frac{1}{2} \times c \times t$$

$$= \left( \frac{1}{2} \times c \times t \right) + \left( \frac{1}{2} \times d \times t \right) - \left( \frac{1}{2} \times c \times t \right)$$

$$= \frac{1}{2} \times d \times t \quad , \text{ misal } d = a = \text{alas}$$

$$= \frac{1}{2} \times a \times t$$

Dengan demikian dapat disimpulkan bahwa luas (L) dari suatu segitiga adalah


$$L = \frac{1}{2} \times a \times t$$

Dengan  $a$  = alas segitiga ,  $t$  = tinggi segitiga

### 3. Persegi panjang

Persegi panjang adalah bangun datar segiempat dengan keempat sudutnya merupakan sudut siku-siku dan sisi-sisi yang berhadapan sama panjang. Segiempat merupakan poligon yang memiliki 4 buah sisi dan 4 buah titik sudut.



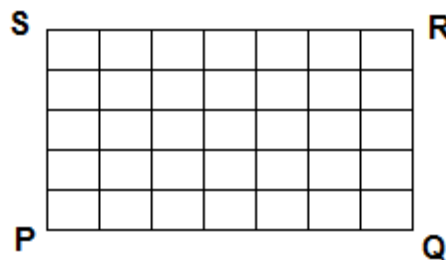


Perhatikan persegi panjang  $PQRS$  disini,  $\overline{PS} = \overline{QR}$  dan  $\overline{PQ} = \overline{SR}$ . Sisi-sisi yang lebih panjang ( $\overline{PQ}$  dan  $\overline{SR}$ ) disebut sebagai panjang yang dinotasikan sebagai  $p$  dan sisi-sisi yang lebih pendek ( $\overline{PS}$  dan  $\overline{QR}$ ) disebut sebagai lebar yang dinotasikan sebagai  $l$ . Keliling ( $K$ ) dari

sebuah persegi panjang adalah jumlah dari sisi-sisi persegi panjang tersebut yaitu:

$$K = \overline{PQ} + \overline{QR} + \overline{SR} + \overline{PS} = p + l + p + l = 2(p + l).$$

Dengan  $p$  merupakan panjang dan  $l$  merupakan lebar dari persegi panjang tersebut. Selanjutnya perhatikan gambar berikut



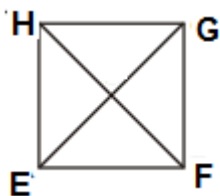
Persegi panjang  $PQRS$  merupakan persegi panjang dengan panjang 7 persegi satuan dan lebar 5 persegi satuan. Disini diperoleh luas dari persegi panjang  $PQRS$  sama dengan banyaknya persegi dalam area  $PQRS$  yaitu sebanyak 35 satuan yang dapat juga diperoleh dari hasil kali panjang dan lebar dari Persegi panjang  $PQRS$ . Dengan demikian Luas ( $L$ ) dari persegi panjang adalah:

$$L = p \times l$$

Dengan  $p$  merupakan panjang dan  $l$  merupakan lebar dari persegi panjang tersebut.

#### 4. Persegi

Persegi merupakan bangun datar segiempat yang sudut-sudutnya merupakan sudut siku-siku dan semua sisi-sisinya sama panjang.



Perhatikan persegi  $EFGH$ . Sisi  $\overline{EF} = \overline{FG} = \overline{GH} = \overline{HE} = a$  dengan  $a$  merupakan sisi dari persegi  $EFGH$ .  $\overline{EG} = \overline{FH} = a\sqrt{2}$  (diperoleh dengan menggunakan teorema pythagoras) merupakan sisi diagonal dari  $EFGH$ . Keliling ( $K$ ) dari suatu persegi adalah jumlahan dari sisi-sisi persegi tersebut

yaitu:

$$K = a + a + a + a = 4 \times a$$

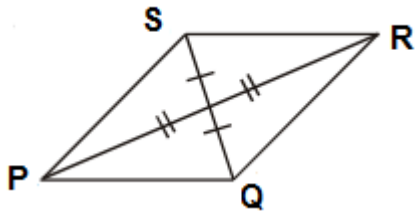
Dengan  $a$  merupakan sisi dari suatu persegi. Suatu persegi yang memiliki panjang yang sama dengan lebarnya atau  $p = l = a$  memiliki luas (L) yaitu

$$L = a \times a$$

Dengan  $a$  merupakan sisi dari suatu persegi.

## 5. Jajar Genjang

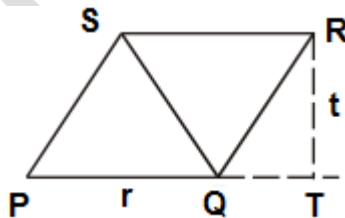
Jajar genjang merupakan bangun datar segiempat yang memiliki sisi-sisi yang berhadapan sama panjang dan sejajar, memiliki dua pasang sudut yang masing-masing sama besar dengan sudut dihadapannya, jumlah sudut yang berdekatan  $180^\circ$  dan kedua diagonalnya saling berpotongan ditengah-tengah bidang jajar genjang tersebut.



Perhatikan jajar genjang  $PQRS$ . Sisi  $\overline{PQ} = \overline{SR}$ ,  $\overline{PQ} \parallel \overline{SR}$ , sisi  $\overline{PS} = \overline{QR}$ ,  $\overline{PS} \parallel \overline{QR}$ .  $\angle PSR = \angle PQR$ ,  $\angle SPQ = \angle QRS$ ,  $\angle PQR = \angle RSP$ .  $\angle QPS + \angle PQR = 180^\circ$ ,  $\angle QRS + \angle PSR = 180^\circ$ . Keliling jajar genjang (K) merupakan jumlah dari panjang sisi-sisinya. Pada jajar genjang  $PQRS$  diperoleh

$$\begin{aligned} K &= \overline{PQ} + \overline{QR} + \overline{SR} + \overline{PS} = 2 \times \overline{QR} + 2 \times \overline{SR} \quad [\overline{PS} = \overline{QR} \text{ dan } \overline{PQ} = \overline{SR}] \\ &= 2 \times (\overline{QR} + \overline{SR}) \end{aligned}$$

Selanjutnya, perhatikan gambar berikut:



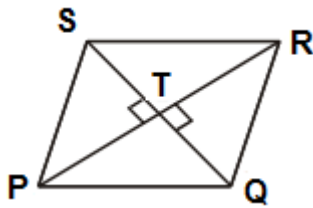
Perhatikan jajar genjang  $PQRS$ , Luas (L) jajar genjang  $PQRS$  sama dengan luas  $\Delta PQS$  ditambah dengan luas  $\Delta QRS$ . Akibatnya diperoleh

$$L = \text{luas } \Delta PQS + \Delta QRS = \left(\frac{1}{2} \times r \times t\right) + \left(\frac{1}{2} \times r \times t\right) = r \times t$$

Dengan  $r$  merupakan alas jajar genjang dan  $t$  merupakan tinggi jajar genjang.

## 6. Belah ketupat

Belah ketupat merupakan jajar genjang yang keempat sisi-sisinya sama panjang dan diagonal-diagonalnya berpotongan saling tegak lurus.



Perhatikan belah ketupat  $PQRS$ . Sisi  $\overline{PQ} = \overline{QR} = \overline{SR} = \overline{PS}$ .  
 $\angle PQR = \angle RSP, \angle SPQ = \angle QRS, \angle QPS + \angle PQR = 180^\circ, \angle QRS + \angle PSR = 180^\circ$ . dan  $\overline{QT} \perp \overline{PR}, \overline{ST} \perp \overline{PR}$ .

Keliling (K) dari belah ketupat merupakan jumlah dari panjang sisi-sisi belah ketupat, yaitu:

$$K = \overline{PQ} + \overline{QR} + \overline{SR} + \overline{PS} = 4 \times \overline{PQ} [\overline{PQ} = \overline{QR} = \overline{SR} = \overline{PS}] \\ = 4 \times a$$

Dengan  $a$  merupakan sisi dari belah ketupat tersebut. Luas (L) dari belah ketupat  $PQRS$  merupakan jumlah dari luas  $\Delta PQR$  ditambah dengan luas  $\Delta RSP$ . Akibatnya diperoleh

$$L = \text{luas } \Delta PQR + \Delta RSP = \left(\frac{1}{2} \times \overline{PR} \times \overline{TQ}\right) + \left(\frac{1}{2} \times \overline{PR} \times \overline{ST}\right) \\ = \frac{1}{2} \times \overline{PR} \times (\overline{TQ} + \overline{ST}) \\ = \frac{1}{2} \times \overline{PR} \times \overline{SQ}$$

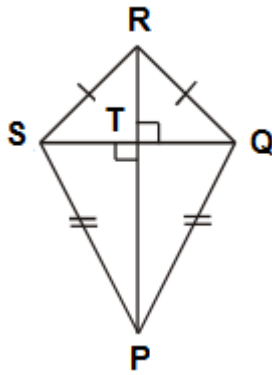
Jadi diperoleh luas dari suatu belah ketupat adalah setengah dari hasil kali diagonal-diagonalnya yaitu

$$L = \frac{1}{2} \times (d_1 \times d_2)$$

Dengan  $d_1$  dan  $d_2$  merupakan diagonal-diagonal dari belah ketupat.

## 7. Layang-layang

Layang-layang merupakan bangun datar segiempat yang dibentuk oleh 2 pasang sisi yang sepasan sisi-sisinya sama panjang, sepasang sudut yang berhadapan sama besar, salah satu dari diagonalnya membagi dua diagonal yang lain atas dua bagian yang sama panjang dan kedua diagonal tersebut saling tegak lurus.



Perhatikan layang-layang  $PQRS$ . Sisi  $\overline{SR} = \overline{RQ}$  ,  $\overline{SP} = \overline{PQ}$ ,  $\angle PSR = \angle PQR$ ,  $\overline{TS} = \overline{TQ}$  dan  $\overline{SQ} \perp \overline{RP}$ . Keliling (K) dari belah ketupat merupakan jumlah dari sisi-sisinya yaitu

$$K = \overline{SR} + \overline{RQ} + \overline{SP} + \overline{PQ} = (2 \times \overline{SR}) + (2 \times \overline{SP}) \\ = 2 \times (\overline{SR} + \overline{SP})$$

Luas (L) dari suatu layang-layang  $PQRS$  adalah jumlah dari luas  $\Delta PRS$  ditambah dengan luas  $\Delta PQR$  yaitu

$$L = \text{luas } \Delta PRS + \text{luas } \Delta PQR = \left(\frac{1}{2} \times \overline{ST} \times \overline{RP}\right) + \left(\frac{1}{2} \times \overline{TQ} \times \overline{RP}\right) \\ = \frac{1}{2} \times \overline{RP} \times (\overline{ST} + \overline{TQ}) \\ = \frac{1}{2} \times \overline{RP} \times \overline{SQ}$$

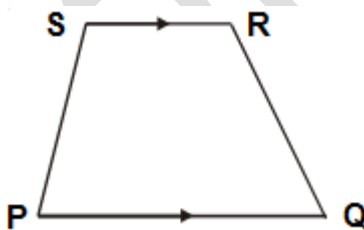
Jadi diperoleh luas layang-layang adalah setengah dari hasil kali diagonal-diagonalnya yaitu

$$L = \frac{1}{2} \times (d_1 \times d_2)$$

Dengan  $d_1$  dan  $d_2$  merupakan diagonal-diagonal dari layang-layang.

## 8. Trapesium

Trapesium merupakan bangun datar segiempat yang memiliki sepasang sisi yang sejajar, berhadapan tetapi tidak sama panjang.



Perhatikan trapesium  $PQRS$ , disini  $\overline{PQ} // \overline{SR}$ . Pada trapesium  $PQRS$  ketika:

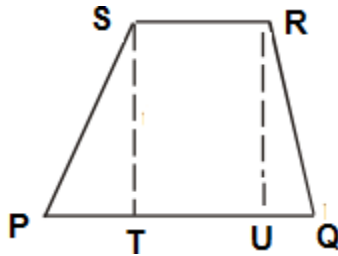
1.  $\overline{PS} = \overline{QR}$  disebut sebagai trapesium samakaki.
2.  $\overline{PQ} \perp \overline{QR}$  dan  $\overline{PS} \perp \overline{SR}$  disebut sebagai trapesium siku-siku.

3. Bukan merupakan trapesium samakaki disebut dan bukan trapesium siku-siku disebut sebagai trapesium sembarang.

Perhatikan trapesium  $PQRS$ , keliling (K) dari suatu trapesium adalah jumlah dari sisi-sisinya, yaitu:

$$K = \overline{PS} + \overline{QR} + \overline{PS} + \overline{SR}$$

Selanjutnya perhatikan trapesium  $PQRS$  sebarang berikut



Perhatikan bahwa luas ( $L$ ) trapesium  $PQRS$  sama dengan luas  $\Delta STP$  ditambah luas persegi panjang  $TURS$  ditambah dengan luas  $\Delta QUR$ , dengan  $\Delta STP$  dan  $\Delta QUR$  merupakan segitiga siku-siku. Jadi diperoleh

$L = \text{luas } \Delta STP + \text{luas persegi panjang } TURS + \text{luas } \Delta QUR$

$$\begin{aligned}
 &= \left(\frac{1}{2} \times \overline{PT} \times \overline{TS}\right) + (\overline{TU} \times \overline{UR}) + \left(\frac{1}{2} \times \overline{UQ} \times \overline{UR}\right) \\
 &= \left(\frac{1}{2} \times \overline{PT} \times \overline{TS}\right) + (\overline{TU} \times \overline{TS}) + \left(\frac{1}{2} \times \overline{UQ} \times \overline{TS}\right) \quad [\overline{TS} = \overline{UR}] \\
 &= \left(\frac{1}{2} \times \overline{PT} \times \overline{TS}\right) + \frac{1}{2} \times 2(\overline{TU} \times \overline{TS}) + \left(\frac{1}{2} \times \overline{UQ} \times \overline{TS}\right) \\
 &= \frac{1}{2} \times (\overline{PT} + 2 \times \overline{TU} + \overline{UQ}) \times \overline{TS} \\
 &= \frac{1}{2} \times (\overline{PT} + \overline{TU} + \overline{UQ} + \overline{TU}) \times \overline{TS} \\
 &= \frac{1}{2} \times ((\overline{PT} + \overline{TU} + \overline{UQ}) + \overline{SR}) \times \overline{TS} \quad [\overline{TU} = \overline{SR}] \\
 &= \frac{1}{2} \times [\overline{PQ} + \overline{SR}] \times \overline{TS}
 \end{aligned}$$

Jadi luas trapesium adalah jumlah sisi sejajar dikali tinggi dibagi dua .

### Daftar Pustaka

Jiagu, Xu (2010). *Lecture Notes On Mathematical Olympiad Courses For Junior Section (Volume I)*. Singapore: World Scientific Publishing Co. Pte. Ltd.

Manik, Rosida, Dame (2009). *Penunjang Belajar Matematika*. Jakarta: Pusat Pembukuan Departemen Pendidikan Nasional.

Tanton, J (2005). *Encyclopedia of Mathematics*. New York: Fact On File, Inc.

Rich Barnet (2001). *Geometry Scaum's Easy Outlines*. McGraw-Hill Companies.

PLPG 2017