

Yang kami tampilkan di sini hanya sebagai contoh untuk mendapatkan soal soal yang lengkap dapat mengunduhnya pada link di bawah ini :

## **DOWNLOAD BANK SOAL KELAS 1 SEMESTER 2 LENGKAP**

<b>SD NEGERI KOTALAMA</b> <b>PENILAIAN AKHIR SEMESTER II</b> <b>TAHUN PELAJARAN 2019/2020</b>	Nama :
	No. Absen :
	Nilai :
Mata Pelajaran : Tema 5 Subtema 1, 2, 3 dan 4	
Kelas : I (SATU)	
Waktu : 90 menit	
Tanggal :	

### **I. Berikan tanda silang (x) pada jawaban yang benar !**

1. Di bawah ini simbol sila ke 2 adalah ...

a.



b.



c.



d.



2. Perbuatan berbagi sesuai dengan sila yang ke ... dalam Pancasila

a. 2

b. 4

c. 3

d. 5

3. Hal yang boleh dan tidak boleh dilakukan disebut ...

a. Jujur

b. Berani

c. xAturan

d. Sombong

4. Meminjamkan mainan kepada teman saat bermain adalah salah satu hal yang ...

a. Baik

b. Buruk

c. Tidak boleh

d. Sombong

5. Kegemaran setiap anggota keluarga berbeda beda , tetapi dapat dilakukan dengan ... sama

a. Teman

b. Sendiri

c. Sembunyi

d. Bersama

6. Budi, likisanmu indah sekali!


Merupakan kalimat pujian kepada budi karena ia pandai ...

Yang kami tampilkan di sini hanya sebagai contoh untuk mendapatkan soal soal yang lengkap dapat mengunduhnya pada link di bawah ini :

## **DOWNLOAD BANK SOAL KELAS 1 SEMESTER 2 LENGKAP**

- a. Melukis
- b. Berenang
- c. Menari
- d. Bernyanyi

7. Perhatikan gambar dibawah ini!




ungkapan yang tepat adalah ...

- a. Siti, masakanmu enak sekali
  - b. Siti, tulisanmu bagus sekali
  - c. Siti, lukisanmu bagus sekali
  - d. Siti, pakianmu bersih sekali
8. Edo datang terlambat ke kelas. Edo mengucapkan ... saya terlambat
- a. Ayo, ibu
  - b. Maaf, Ibu
  - c. Tidak, Ibu
  - d. Jangan, Ibu
9. Udin tidak sengaja menyenggol bahu Edo. Udin berkata "Maaf, Edo. Saya tidak sengaja". Edo tersenyum lalu berkata "Tidak apa-apa, Udin."  
Yang termasuk ungkapan permintaan maaf pada cerita diatas adalah ...
- a. Tidak apa-apa, Udin
  - b. Maaf, Edo. Saya tidak sengaja
  - c. Udin sengaja menyenggol
  - d. Menari bersama sama
10. Dibawah ini yang bukan merupakan kata ajakan adalah ...
- a. Mari
  - b. Yuk
  - c. Jangan
  - d. Ayo
11. Yanal mengajak tatag menonton tari dari dekat.  
"Ayo, kita maju ke depan, Tatag." Tatag menanggapi ajakan Yanal.  
"... , mari kita menonton di depan."  
kata tanggapan yang tepat adalah ...
- a. Baiklah
  - b. Tidak
  - c. Jangan
  - d. Terima kasih

Yang kami tampilkan di sini hanya sebagai contoh untuk mendapatkan soal soal yang lengkap dapat mengunduhnya pada link di bawah ini :

## **DOWNLOAD BANK SOAL KELAS 1 SEMESTER 2 LENGKAP**


12. Perhatikan gambar dibawah ini!



Hitunglah berapa banyak gambar gunting dibawah ini ...

- a. 10
- b. 11
- c. 12
- d. 13


13. Perhatikan gambar dibawah ini!



Berapakah jumlah telur diatas ...

- a. 22
- b. 24
- c. 23
- d. 25

14. Lihatlah gambar dibawah ini !



rumah warna putih ditunjukkan dengan nomor ...

- a. 28
- b. 30
- c. 29
- d. 31

15. Perhatikan gambar dibawah ini!



Nilai yang benar untuk melengkapi garis bilangan dibawah ini adalah ...

Yang kami tampilkan di sini hanya sebagai contoh untuk mendapatkan soal soal yang lengkap dapat mengunduhnya pada link di bawah ini :

## **DOWNLOAD BANK SOAL KELAS 1 SEMESTER 2 LENGKAP**

- a. 30,31,32,33,35
- b. 29,30,31,32,33
- c. 31,32,33,35,36
- d. 28,29,30,31,32

16. Roni punya 5 buku  
dina punya 10 buku  
buku roni ... dari buku dina

- a. Lebih banyak
- b. Sama dengan
- c. Lebih sedikit
- d. Setara

17. Gerak tumbuhan adalah gerakan yang dilakukan dengan cara meniru gerak pada ...

- a. Tumbuhan
- b. Tembok
- c. Bola
- d. Binatang

18. Ketukan secara teratur disebut ...

- a. Irama
- b. Dinamik
- c. Nada
- d. Tempo


19. Perhatikan gambar dibawah ini!



Yanal dan damar sedang memeragakan tentang ...

- a. Mengayun
- b. Bertumpu pada tangan
- c. Keseimbangan
- d. Berguling

20. Perhatikan gambar dibawah ini!



Lani sedang berlatih gerakan ...

- a. Keseimbangan
- b. Berguling
- c. Bertumpu dengan kursi
- d. Bertumpu pada tangan

Yang kami tampilkan di sini hanya sebagai contoh untuk mendapatkan soal soal yang lengkap dapat mengunduhnya pada link di bawah ini :

## [DOWNLOAD BANK SOAL KELAS 1 SEMESTER 2 LENGKAP](#)

### II. Isilah titik titik dengan jawaban yang tepat !

1. Edo diundang makan bersama di rumah paman.  
Edo memilih nasi goreng dan sate ayam.  
Ibu Edo makan ikan bakar dan rujak.  
Ayah Edo lebih suka makan papeda.  
Siapakah yang memilih makanan ikan bakar ...
2. Kerja sama membuat pekerjaan rumah menjadi lebih ...
3. Anak harus berbakti dan ... pada orang tua
4. Perhatikan teks dibawah ini!

Sahabatku.  
Aku sangat beruntung.  
Aku miliki sahabat sepertimu.  
Senang kita bersama.  
Susah pun bersama.

Terima kasih Sahabatku.  
Aku senang bermain bersamamu.  
Kamu pun hibur aku saat masa sulitku.

Apakah judul puisi yang ditulis oleh Siti?

5. Perhatikan gambar dibawah ini!



Urutkan angka diatas dari angka paling besar ...

6. Dayu melihat ada 10 burung nuri dan 16 burung kakaktua di dalam kandang. Berapa banyak burung yang ada di kandang tersebut?
7. Patung adalah salahsatu contoh karya seni ... dimensi
8. Tempat foto yang biasanya dipajang di dinding adalah ...
9. Salah satu gerakan senam lantai adalah gerakan ... tempat
10. Perhatikan gambar dibawah ini!



pak guru sedang memeragakan gerakan ...

Yang kami tampilkan di sini hanya sebagai contoh untuk mendapatkan soal soal yang lengkap dapat mengunduhnya pada link di bawah ini :

**[DOWNLOAD BANK SOAL KELAS 1 SEMESTER 2 LENGKAP](#)**

**KUNCI JAWABAN**

**PILIHAN GANDA**

1. b
2. a
3. c
4. a
5. d
6. a
7. a
8. b
9. b
10. c
11. a
12. c
13. a
14. b

Yang kami tampilkan di sini hanya sebagai contoh untuk mendapatkan soal soal yang lengkap dapat mengunduhnya pada link di bawah ini :

## **DOWNLOAD BANK SOAL KELAS 1 SEMESTER 2 LENGKAP**

15. a

16. c

17. a

18. a

19. b

20. c

### **ISIAN SINGKAT**

1. Ibu edo

2. Ringan

3. Hormat / Patuh

4. Sahabatku /Sahabat

5. 29, 28, 27, 22, 21

6. 26 ekor

7. Tiga

8. Pigura

9. Berpindah

10. Keseimbangan