

Yang kami tampilkan di sini hanya sebagai contoh untuk mendapatkan soal soal yang lengkap dapat mengunduhnya pada link di bawah ini :

DOWNLOAD BANK SOAL KELAS 2 SEMESTER 2 LENGKAP

SD NEGERI KOTALAMA PENILAIAN AKHIR SEMESTER TAHUN PELAJARAN 2018/2019	Nama :
	No. Absen :
	Nilai :
Mata Pelajaran : Tema 5 Subtema 1, 2, 3 dan 4	
Kelas : II (DUA)	
Waktu : 90 menit	
Tanggal :	

I. Berikan tanda silang (x) pada jawaban yang benar !

- Contoh perilaku yang menunjukkan sikap pertama ...
 - Lesuh
 - Mengeluh
 - Semangat
 - Bersukur
- Perilaku yang menunjukkan perilaku sila ke 1 , dalam keluarga ...
 - Malas
 - Beribadah
 - Membantu orangtua
 - Bermain
- Contoh perilaku yang menggambarkan sila ke 3 di sekolah ...
 - Mengikuti upacara
 - Marah kepada teman
 - Bolos sekolah
 - Malas
- Perilaku yang sesuai sila ke 5 adalah ...
 - Bersikap diam
 - Bersikap tidak adil
 - Bersikap sombong
 - Bersikap adil
- Pada suatu hari ani dan fani terlibat dalam pertengkaran dan tidak tau siapa yang salah langkah yang di ambil sesuai sila ke 4 adalah ..
 - Lanjut bertengkar
 - Musyawahar
 - Saling marah
 - Diam saja
- Berikut ini yang bukan termasuk judul puisi tentang alam adalah ...
 - Rumput hijau
 - Pak tani dan padi
 - Bolos sekolah
 - Pohon pohon
- Bacalah puisi di bawah ini!
Karya zalia karya putra

Yang kami tampilkan di sini hanya sebagai contoh untuk mendapatkan soal soal yang lengkap dapat mengunduhnya pada link di bawah ini :

DOWNLOAD BANK SOAL KELAS 2 SEMESTER 2 LENGKAP

Aku sangat suka membersihkan halaman
Biasanya aku membersihkan halaman saat di siang hari
Atau di sore hari
Tetapi terkadang ibu yang membantuku menyapu halaman

Agar aku tidak terlalu capek
Aku tidak pernah merasa capek
Karena aku ingin lingkungan
Rumahku bersih dan sehat

Puisi di atas menceritakan tentang ...

- a. Pertemanan
- b. Lingkungan
- c. Persahabatan
- d. Keluarga

8. Lingkunganku

Lingkunganku dahulu rindang
Anak anak sangat senang
Bermain di tanah lapang
Lingkunganku kini gersang

Pohon pohon ditebang
Mengotori atmosfer
Tidak ada lagi burung terbang
Tidak ada lagi tanah lapang
Tempat anak anak bermain riang
Kosakata sulit apa yang di temukan di puisi di atas ...

- a. Burung
- b. Lapang
- c. Atmosfer
- d. Di tebang

9. Udin membawa banyak buku kemudian dia bertemu dengan Lani, Lani pun melihat Udin kesusahan membawa buku, apa yang harus di ucapkan Lani untuk membantu Udin ...

- a. Bolehkah aku bantu ?
- b. Kamu sudah makan ?
- c. Kamu sedang kesusahan ?
- d. Diam saja

10. Pada suatu hari Beni dan Dian bertemu dan mereka membawa vas bunga secara tidak sengaja Dian menenggol vas bunga Dian hingga terjatuh dan pecah, hal sebaiknya harus di lakukan Dian adalah ...

- a. Mengganti
- b. Membiarkan saja
- c. Meminta maaf
- d. Memperbaiki

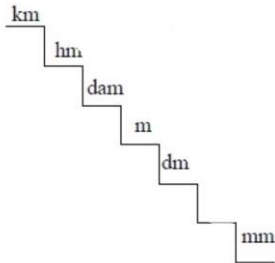
11. Contoh kalimat meminta tolong adalah

Yang kami tampilkan di sini hanya sebagai contoh untuk mendapatkan soal soal yang lengkap dapat mengunduhnya pada link di bawah ini :

DOWNLOAD BANK SOAL KELAS 2 SEMESTER 2 LENGKAP


- a. Dewi kamu sekarang cantik
- b. Dewi boleh aku pinjam sepeda
- c. Dewi ayo kita main keluar
- d. Dewi tolog belikan saya minum

12. Cermati gambar di bawah ini!



Pada gambar di atas satuan apa yang tidak ada ...

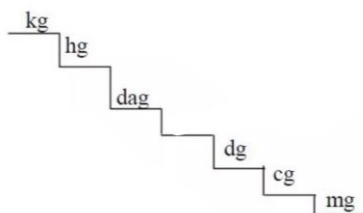
- a. Mm
 - b. Dm
 - c. Km
 - d. Km
13. Cermati gambar di bawah di bawah ini!



Gambar di atas termasuk gerakan bertumpu pada ...

- a. Tangan
 - b. Jari
 - c. Kaki
 - d. Bahu
14. Beni mempunyai tali sepanjang 1 m Beni ingin membagi tali ke talita berapa panjang abeni dan talita membagi tali ,satuan cm ...
- a. 5 cm
 - b. 50 m
 - c. 50 cm
 - d. 5 m

15. Cermati gambar dibawah ini!



Pada gambar di atas satuan berat yang hilang adalah ...

- a. Mili gram
- b. Gram

Yang kami tampilkan di sini hanya sebagai contoh untuk mendapatkan soal soal yang lengkap dapat mengunduhnya pada link di bawah ini :

DOWNLOAD BANK SOAL KELAS 2 SEMESTER 2 LENGKAP

- c. Kilo gram
d. Gram meter

16. Satuan dari berat adalah ...

- a. Gram
b. Mili
c. Meter
d. Panjang

17. Yang bukan termasuk karya 3 dimensi adalah ..

- a. Lukisan
b. Vas bunga
c. Gerabah
d. Patung


18. Mimik wajah disebut adalah ...

- a. Irama
b. Expresi
c. Intonasi
d. Gaya

19. Yang termasuk dalam karya seni 3 dimensi adalah ...

- a. Animasi
b. Lukisan
c. Gambar
d. Patung

20. Cermati gambar di bawah ini!



Gerak di atas termasuk pada gerak ...

- a. Tolakan
b. Putaran
c. Kesimbangan
d. Ayunan

II. Isilah titik titik dengan jawaban yang tepat !

- Bersyukur dan rajin beribadah termasuk pada sila ke .. dan sebutkan Lambangnya...
- Sebutkan perilaku atau sikap yang sesuai dengan sila ke 3 di rumah ...
- Pada suatu pagi yanal dan edo bermain kasti
Yanal : "ayoo edo lempar bolanya"
Edo : "okee (edo pun melempar bolanya dengan kencang)"
Yanal : "bagus (yanal pun memukul dengan sangat kencang hingga tongkat terlepas)
Secara tiba tiba tongkat terkena lani yang sedang lewat sontak lani menangis

Yang kami tampilkan di sini hanya sebagai contoh untuk mendapatkan soal soal yang lengkap dapat mengunduhnya pada link di bawah ini :

DOWNLOAD BANK SOAL KELAS 2 SEMESTER 2 LENGKAP

Yanal : ""

Lani : "tidak apa apa aku tau tidak sengaja(sambil menangis)"

Edo : "ya maafkan kami lani"

lengkapi kata kata tersebut untuk meminta maaf ...

4. Cermati cerita berikut.

Beni sedang bermain dengan lisa dan fani

Mereka bermain gobak sodor dengan tidak sengaja

Lisa mendorong fani sampai terjatuh ,

Lisa "aduhh maaf fani aku tidak sengaja"

Fani "tidak apa apa lisa"

Setelah itu beni berkata "ayo lanjut bermain"

Lisa dan fani "ayooo"

Pada cerita di atas mana kalimat yang mengandung permintaan maaf ...


5. Diketahui: panjang bambu edo 300cm

panjang bambu ani 500cm

Ditanya : berapa meter panjang bambu mereka bila disatukan ?

6. Bowo memiliki bambu 9 m dan di potong 2,5 m berapa cm sisa bambu bowo ...

7. Perhatikan gambar dibawah ini!



Gerak di bawah menirukan gerak tumbuhan apa ...

8. Vas dari botol ,tas dari kemasan makanan , termasuk dalam kerajinan ...

9. Perhatikan gambar dibawah ini!

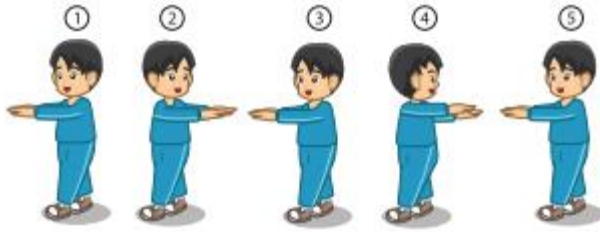


Gambar di bawah adalah gerakan ...

Yang kami tampilkan di sini hanya sebagai contoh untuk mendapatkan soal soal yang lengkap dapat mengunduhnya pada link di bawah ini :

DOWNLOAD BANK SOAL KELAS 2 SEMESTER 2 LENGKAP

10. Perhatikan dibawah ini!



Gambar di bawah ini adalah gerakan ...

KUNCI JAWABAN PILIHAN GANDA

1. d
2. b
3. a
4. d
5. b
6. c
7. b
8. c
9. a
10. c
11. d
12. d
13. a
14. c
15. b

Yang kami tampilkan di sini hanya sebagai contoh untuk mendapatkan soal soal yang lengkap dapat mengunduhnya pada link di bawah ini :

DOWNLOAD BANK SOAL KELAS 2 SEMESTER 2 LENGKAP

- 16. a
- 17. a
- 18. b
- 19. d
- 20. c

ISIAN SINGKAT

- 1. Sila ke 1, bintang
- 2. a) Mencintai sesama anggota keluarga dan membina kerukunan serta keutuhan keluarga.
b) Mengutamakan kepentingan keluarga.
c) Tidak memaksakan kehendak kepada anggota keluarga.
d) Saling menyayangi, tolong-menolong, saling menghormati, dan menghargai serta bergotong-royong di antara sesama anggota keluarga.
e) Memajukan pergaulan demi keutuhan keluarga.
f) Menjaga, memelihara dan mempunyai rasa memiliki harta benda keluarga.
- 3. "maaf Iani aku tidak sengaja"
- 4. "aduhh maaf Fani aku tidak sengaja"
- 5. Jawab : $300\text{cm} = 3\text{ m}$
 $500\text{cm} = 5\text{ m}$
Jadi $3 + 5 = 8\text{ M}$
- 6. $9 - 2,5 = 6,5\text{ m}$
 $6,5\text{m} = 650\text{ cm}$
- 7. Bunga
- 8. Bahan bekas
- 9. Mendarat
- 10. Ayunan