

RENCANA PELAKSANAAN PEMBELAJARAN

Satuan Pendidikan : SMP Negeri 3 Cisitu
Kelas/Semester : VII/1
Tema : Bilangan Bulat
Sub Tema : Operasi Hitung Bilangan Bulat
Pembelajaran ke : 2
Alokasi Waktu : 10 menit

A. TUJUAN PEMBELAJARAN

- Siswa dapat melakukan operasi hitung penjumlahan dan pengurangan pada bilangan bulat.
- Siswa dapat menyelesaikan soal sehari-hari yang berkaitan dengan penjumlahan dan pengurangan pada bilangan bulat.

B. KEGIATAN PEMBELAJARAN

- Menyapa dan menanyakan kabar peserta didik, mengajak peserta didik untuk berdoa, dan mengecek kehadiran.
- Menyampaikan tujuan pembelajaran
- Membagikan Lembar Kerja Peserta Didik (LKPD)
- Literasi Baca Materi yang ada di Lembar Kerja Peserta Didik (LPD)
- Peserta didik dilibatkan secara aktif dalam proses pembelajaran berupa tanya jawab terkait materi yang sudah mereka baca. Kemudian Peserta didik diberikan tugas kelompok.
- Peserta didik secara berkelompok Menyelesaikan tugas yang diberikan oleh Guru.
- Peserta didik mempresentasikan hasil kelompoknya.
- Peserta didik mengkomunikasikan materi yang belum dipahami.

C. PENILAIAN PEMBELAJARAN

- Pengetahuan : Test Tulis
- Keterampilan : Observasi, penilaian unjuk kerja Ketika kerja kelompok

Mengetahui



Usep Ismail, S.Pd. M.M

NIP.196504171988031008

Sumedang, 2 Januari 2022

Guru Mata Pelajaran

Lia Siti Mulyanah, S.Pd. M.Pd


NIP. 197906152021212001

LEMBAR KERJA PESERTA DIDIK

Peralatan : Papan Kertas
Pensil
Boneka Pensil
Kertas Tempel Warna

Petunjuk Kegiatan :

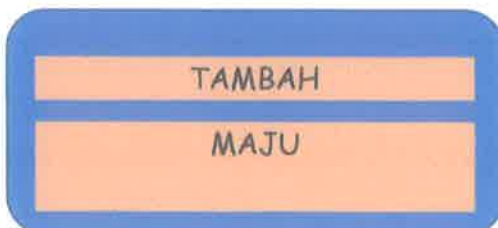
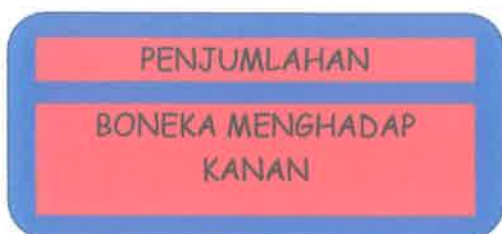
1. Buatlah Papan bilangan dengan ukuran yang sesuai dengan papan kertas. Seperti Contoh berikut !



2. Tuliskan soal-soal berikut pada kertas tempel warna

- | | |
|----------------|----------------|
| a. $3 + 3$ | e. $6 - 3$ |
| b. $-3 + (-2)$ | f. $-4 - 2$ |
| c. $5 + (-3)$ | g. $-6 - (-2)$ |
| d. $-3 + 2$ | h. $4 - (-2)$ |

3. Pasangkan boneka pensil, untuk mengerakan boneka tersebut ingat rumus berikut.



SOAL KEOMPOK

Kerjakan soal – soal berikut Bersama teman-teman sekelompokmu! Kemudian kalian jelaskan didepan kelas.

1. $5 + 5 =$

2. $-5 + (-2) =$

3. $7 + (-4) =$

4. $-4 + 4 =$

5. $7 - 2 =$

6. $-5 - 5 =$

7. $-7 - (-3) =$

8. $6 - (-3) =$

DAFTAR NILAI PENGETAHUAN

KELAS		: VII			
MATA PELAJARAN		: Matematika			
SEMESTER		: II			
TAHUN PELAJARAN		: 2021.-2022			

NO	NIS	NAMA	NILAI	PREDIKAT	DESKRIPSI
1					
2					
3					
4					
5					
6					
7					
8					
9					
10					
11					
12					
13					
14					
15					
16					
17					
18					
19					
20					

DAFTAR NILAI KETERAMPILAN

KELAS	:	VII			
MATA PELAJARAN	:	Matematika			
SEMESTER	:	II			
TAHUN PELAJARAN	:	2021.-2022			

NO	NIS	NAMA	NILAI	PREDIKAT	DESKRIPSI
1					
2					
3					
4					
5					
6					
7					
8					
9					
10					
11					
12					
13					
14					
15					
16					
17					
18					
19					
20					

DAFTAR NILAI SIKAP SPIRITUAL

MATA PELAJARAN : Matematika

KELAS : VII A

NO	NIS	NAMA	INDIKATOR			
			BERDO'A	BERSYUKUR	KETAATAN BERIBADAH	TOLERANSI
1						
2						
3						
4						
5						
6						
7						
8						
9						
10						
11						
12						
13						
14						
15						
16						
17						
18						
19						
20						

